



**CENTRO ESCOLAR COLEGIO ESPAÑOL DE TEPEHITEC**  
**"EDUCANDO CON VALORES"**

Examen de matemáticas  
Docente: Lic. Diana Romero Angulo

Fecha: 11 de noviembre

Nombre del alumno \_\_\_\_\_

Realiza lo que se te indica.



1. Coloca **abajo** de la mesa la pelota, **arriba** del peluche coloca el reloj; coloca **encima** de la mesa el florero.



2. Selecciona el animal que está **en medio**






CENTRO ESCOLAR COLEGIO ESPAÑOL DE TEPEHITEC  
"EDUCANDO CON VALORES"


Examen de matemáticas  
Docente: Lic. Diana Romero Angulo



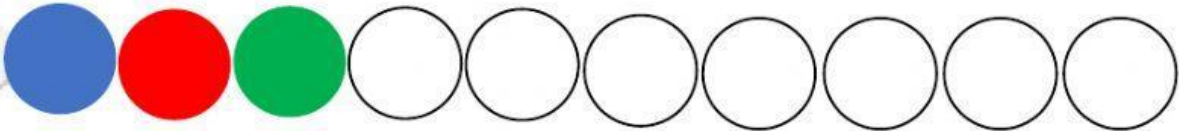
3. Elige el animal que esta **atrás** de la vaca



4. Selecciona el animal que esta **adelante** de la jirafa



5. Realiza el siguiente patrón. Arrastra el color que corresponde






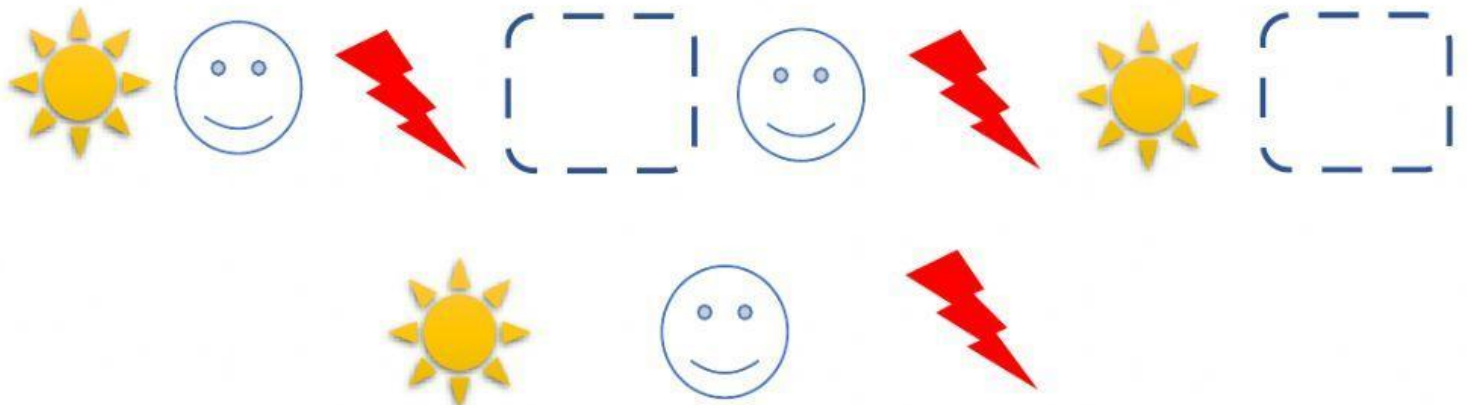
**CENTRO ESCOLAR COLEGIO ESPAÑOL DE TEPEHITEC**  
**"EDUCANDO CON VALORES"**

Examen de matemáticas  
Docente: Lic. Diana Romero Angulo

6. Completa el siguiente patron.



7. Completa el siguiente patron.



8. Escribe los números del 1 al 5 en el recuadro

--





**CENTRO ESCOLAR COLEGIO ESPAÑOL DE TEPEHITEC**  
**"EDUCANDO CON VALORES"**

Examen de matemáticas  
Docente: Lic. Diana Romero Angulo

9. Completa la secuencia numérica

1    \_\_\_\_\_    3    4    \_\_\_\_\_

10. Cuenta los objetos y escribe la cantidad







**CENTRO ESCOLAR COLEGIO ESPAÑOL DE TEPEHITEC**  
**"EDUCANDO CON VALORES"**

Examen de matemáticas  
Docente: Lic. Diana Romero Angulo

11. Cuenta del 1 al 15 y grábalo



12. Selecciona el grupo que tiene **más** fresas

a)



b)



c)







**CENTRO ESCOLAR COLEGIO ESPAÑOL DE TEPEHITEC**  
**"EDUCANDO CON VALORES"**

Examen de matemáticas  
Docente: Lic. Diana Romero Angulo

13. Selecciona el grupo que tiene **menos**



14. Selecciona los grupos que son **iguales**

