

DEMUESTRO LO APRENDIDO
fracciones

1

2

3

4

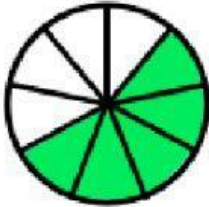
5

6

7

8

9



Arrastra los números de arriba para formar la fracción:

Se escribe:



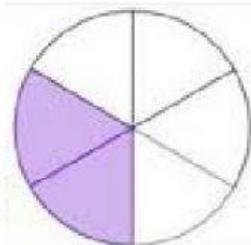
Arrastra los números de arriba para formar la fracción:

Se escribe:



Arrastra los números de arriba para formar la fracción:

Se escribe:




Arrastra los números de arriba para formar la fracción:


Se escribe:

Une la fracción con el gráfico que lo representa.


4
5



6
10



1
3



3
7

