

NOMBRE: _____

MATEMÁTICAS

Repaso de números enteros:

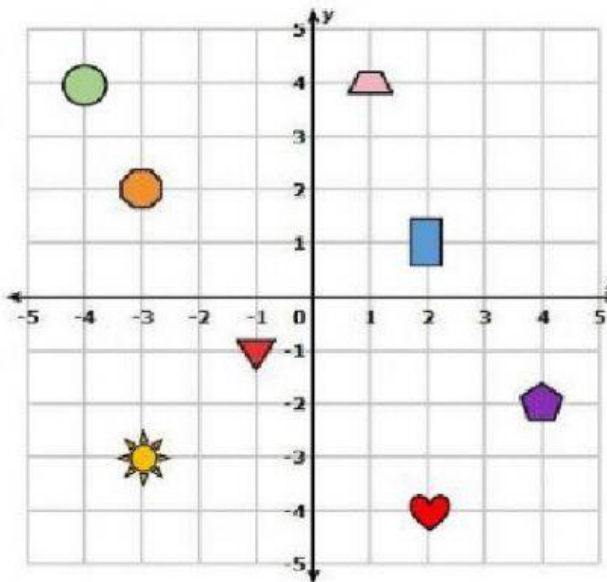
1- Compara los pares de números y escribe los signos correspondientes:





-3		-4
+5		0
-6		-3
0		-2





-1		-7
6		3
-5		-2
9		0

-8		-7
5		+5
0		-1
4		-4

2- Indica los puntos de las siguientes figuras:



-  (,)
-  (,)
-  (,)
-  (,)

-  (,)
-  (,)
-  (,)
-  (,)

3- Realiza las siguientes operaciones:

$(-2)+3 =$	$9 - (+4) =$	$-6 - (-6) =$	$8 - (-9) =$
$3 - (-2) =$	$3 - (-3) =$	$-9 - 8 =$	$0 - (-7) =$
$6 + 3 =$	$5 + (-7) =$	$4 - 6 =$	$2 + 3 + 5 =$
$-3 + (-2) =$	$-4 - 8 =$	$3 - 4 =$	$2 - 3 - 5 =$

