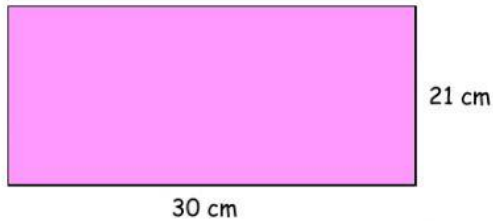


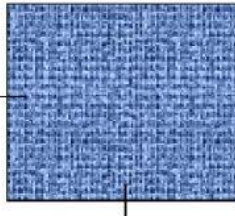
Selesaikan soal berikut dengan menggeser jawaban yang ada di kotak secara tepat!

1. Sebuah kertas berbentuk persegi panjang dengan ukuran seperti gambar berikut ini.

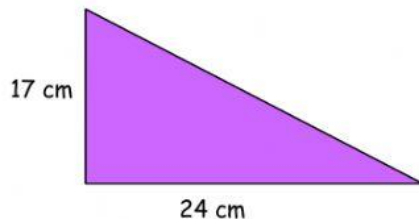


Luas dari kertas tersebut yaitu ... cm^2

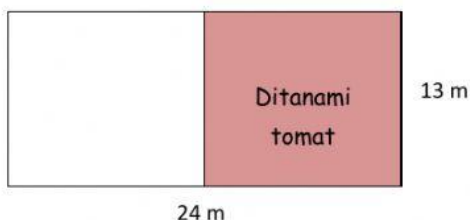
2. Agar nyaman bermain, Ibu membelikan adik tikar yang bentuknya seperti gambar di bawah ini. Jika tikar tersebut memiliki sisi 4 m, luas tikar tersebut yaitu ... m^2



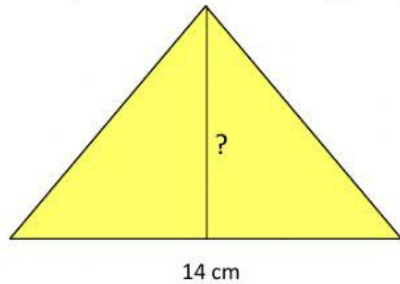
3. Siska akan membantu adiknya menentukan luas bangun segitiga yang memiliki ukuran seperti gambar berikut. Luas bangun segitiga tersebut yaitu ... cm^2



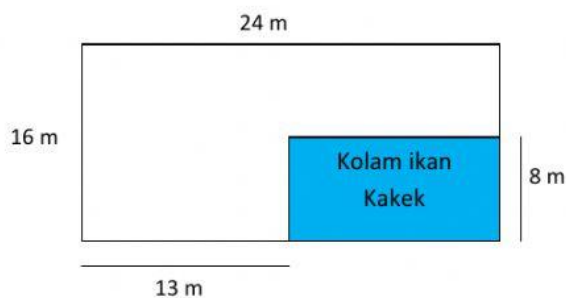
4. Lapangan sekolah Edo berbentuk persegi panjang. Luas lapangan tersebut 264 m^2 dengan lebar 12 m. Panjang lapangan sekolah Edo yaitu ... m.
5. Luas taman bunga di kompleks rumah Siti yang berbentuk persegi yaitu 49 m^2 . Panjang sisi taman bunga tersebut yaitu ... m.
6. Kebun Pak Soleh berbentuk persegi panjang dengan ukuran seperti gambar di bawah ini. Setengah dari kebun tersebut akan ditanami tomat. Luas kebun Pak Soleh yang ditanami tomat yaitu ... m^2



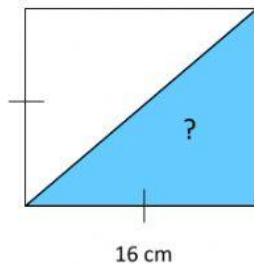
7. Luas bangun segitiga pada gambar berikut yaitu 63 cm^2 . Jika alasnya 14 cm , maka tinggi segitiga tersebut yaitu ... cm .



8. Kebun kakek berbentuk persegi panjang dengan ukuran sesuai gambar berikut. Di dalam kebun Kakek terdapat kolam ikan. Luas kolam ikan milik Kakek yaitu ... m^2 .



9. Sebidang tanah berbentuk persegi panjang dengan ukuran panjang 14 m . Jika luasnya 112 m^2 , maka lebar tanah tersebut yaitu ... m
10. Luas bangun segitiga pada gambar berikut yaitu ... cm^2 .



KOTAK JAWABAN

| | | | |
|-----|-----|-----|-----|
| 7 | 128 | 9 | 16 |
| 8 | 22 | 135 | |
| 156 | 88 | 204 | 630 |