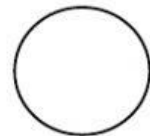
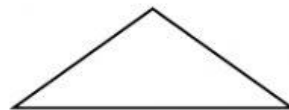



Selesaikan.

1. Safiah ingin membuat sebuah model kereta. Bentuk apakah yang sesuai digunakan sebagai rodanya?

2. Rajah di bawah menunjukkan sekeping kad. Rashid ingin memotong kad itu kepada dua bahagian yang sama besar. Apakah kemungkinan dua bentuk kad itu? Pilih jawapan di bawah.

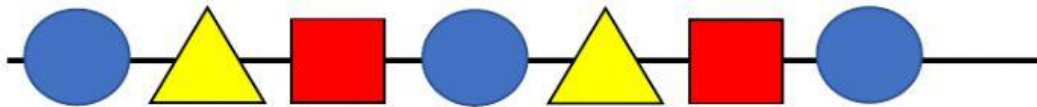


3. Aina ada sebuah rumah yang berbentuk kuboid. Setiap dindingnya ada 2 tingkap. Aina ingin mencuci semua tingkapnya. Berapakah jumlah tingkap yang Aina cuci?

Selesaikan.

4. Raisya ambil satu bentuk 3D di dalam sebuah bekas. Bentuk itu ada 6 permukaan rata dan 8 bucu. Apakah bentuk itu?

5. Sarah membuat rantai menggunakan butang seperti gambar di bawah. Apakah bentuk yang ke-8 pada rantai itu?



6. Chong membina bingkai berbentuk segi empat sama menggunakan kubus seperti rajah di sebelah. Berapakah bilangan kubus yang digunakannya jika setiap sisi ada 4 biji kubus?

