

OPERATORIA COMBINADA

Une con una línea cada ejercicio con su resultado. Sobra un cuadro



$$27 + 2 \cdot 5$$



$$6 \cdot 7 - 4 \cdot 3$$


$$9 \cdot 2 - 10 + 9$$


$$34 - 2 \cdot 7 + 20$$



$$15 \cdot 3 - 9 \cdot 5$$


$$30$$


$$10$$


$$40$$


$$37$$


$$0$$


$$17$$