

# Lectura y escritura de números de cinco cifras

## RECUERDA

Al leer y escribir números de cinco cifras debes tener cuidado con las cifras del número que son cero.

**1** Escribe cómo se lee cada número.

- 24.541 ► \_\_\_\_\_
- 56.382 ► \_\_\_\_\_
- 78.937 ► \_\_\_\_\_

**2** Escribe con cifras. *(No olvides el punto de las miles)*

Veintitrés mil ochocientos cincuenta y seis ►

Cuarenta y ocho mil setecientos veintitrés ►

Setenta y cinco mil quinientos cuarenta y nueve ►

Noventa y nueve mil novecientos setenta y cuatro ►

**3** Lee y relaciona.

Catorce mil novecientos noventa •

Cincuenta y cuatro mil novecientos nueve •

Dieciséis mil cuatrocientos veinte •

Treinta y seis mil cuarenta y dos •

Setenta y ocho mil dieciséis •

Noventa y ocho mil ciento seis •

• 54.909

• 14.990

• 36.042

• 16.420

• 98.106

• 78.016

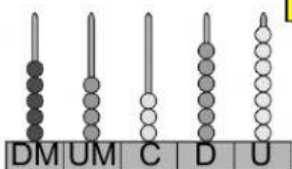
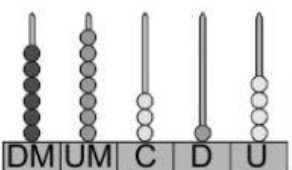
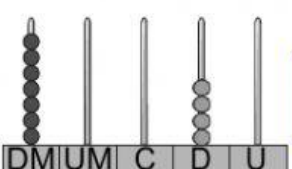
# Descomposición de números de cinco cifras

## RECUERDA

Los números de cinco cifras están formados por decenas de millar, unidades de millar, centenas, decenas y unidades.

1 decena de millar = 10.000 unidades    ► 1 DM = 10.000 U

**4** Escribe el número representado en el ábaco y completa su descomposición

	Escribe el número	Descompónlo
	<div style="border: 1px solid black; width: 150px; height: 30px; margin-bottom: 5px;"></div> <div style="border: 1px solid black; width: 150px; height: 30px; margin-bottom: 5px;"></div>	<div style="border: 1px solid black; width: 250px; height: 30px; margin-bottom: 5px;"></div> <div style="border: 1px solid black; width: 250px; height: 30px; margin-bottom: 5px;"></div>
	<div style="border: 1px solid black; width: 150px; height: 30px; margin-bottom: 5px;"></div> <div style="border: 1px solid black; width: 150px; height: 30px; margin-bottom: 5px;"></div>	<div style="border: 1px solid black; width: 250px; height: 30px; margin-bottom: 5px;"></div> <div style="border: 1px solid black; width: 250px; height: 30px; margin-bottom: 5px;"></div>
	<div style="border: 1px solid black; width: 150px; height: 30px; margin-bottom: 5px;"></div> <div style="border: 1px solid black; width: 150px; height: 30px; margin-bottom: 5px;"></div>	<div style="border: 1px solid black; width: 250px; height: 30px; margin-bottom: 5px;"></div> <div style="border: 1px solid black; width: 250px; height: 30px; margin-bottom: 5px;"></div>

**5** Escribe el valor de la cifra 7 en cada número.

• 24.715  
     └─→ 700 U

• 52.470  
     └─→

• 87.043  
     └─→

• 97.256  
     └─→

• 70.981  
     └─→

• 64.712  
     └─→

## Comparación de números de cinco cifras

6

Selecciona el número mayor.

15.784	42.987	47.092	49.750
34.998	62.945	53.276	51.754
67.432	53.890	76.325	76.297
80.900	89.000	91.374	91.296

7

Ordena según se indica.

De menor a mayor

De mayor a menor

• 29.284, 30.482 y 18.999

<  <

• 37.218, 72.809 y 54.275

>  >

## Números romanos

9

Escribe y selecciona la opción correcta.

El valor de cada número

- MCC ▶
- IX ▶
- XIII ▶
- V ▶
- XC ▶

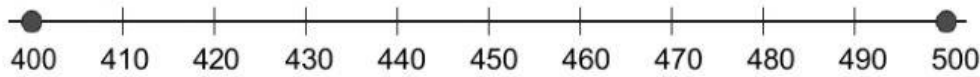
Selecciona la opción correcta

En números romanos

3 ▶	IIII	III	IV
5 ▶	IIIII	D	V
8 ▶	VIII	CD	M
11 ▶	XI	IX	CI
14 ▶	XIII	VIII	XIV

## Aproximaciones

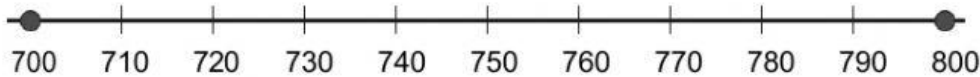
**1** Ayúdate de las rectas y **aproxima** cada número a la centena más cercana.



• 425 ►

• 489 ►

• 440 ►

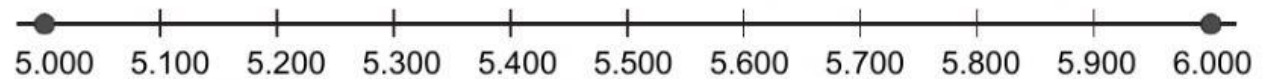


• 719 ►

• 745 ►

• 780 ►

**2** **Aproxima** cada número **al millar más cercano**.

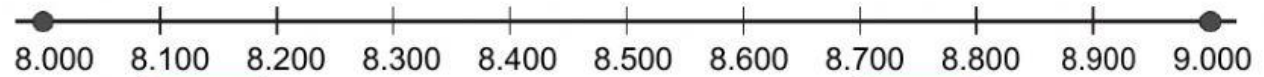


• 5.250 ►

• 5.750 ►

• 5.690 ►

• 5.310 ►



• 8.614 ►

• 8.432 ►

• 8.690 ►

• 8.325 ►

Observa los precios y contesta.



• ¿Cuánto cuesta el televisor aproximadamente?

• ¿Cuál es el precio aproximado del coche?