
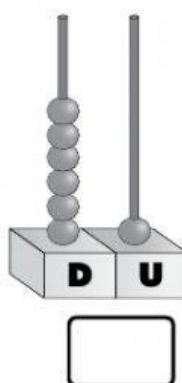

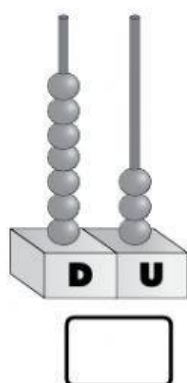


● Escribe los números que representan estos ábacos.



Escribe el número mayor y el número menor.



● Representa estos números en los ábacos y escribe sus nombres.

64

49

56

71

