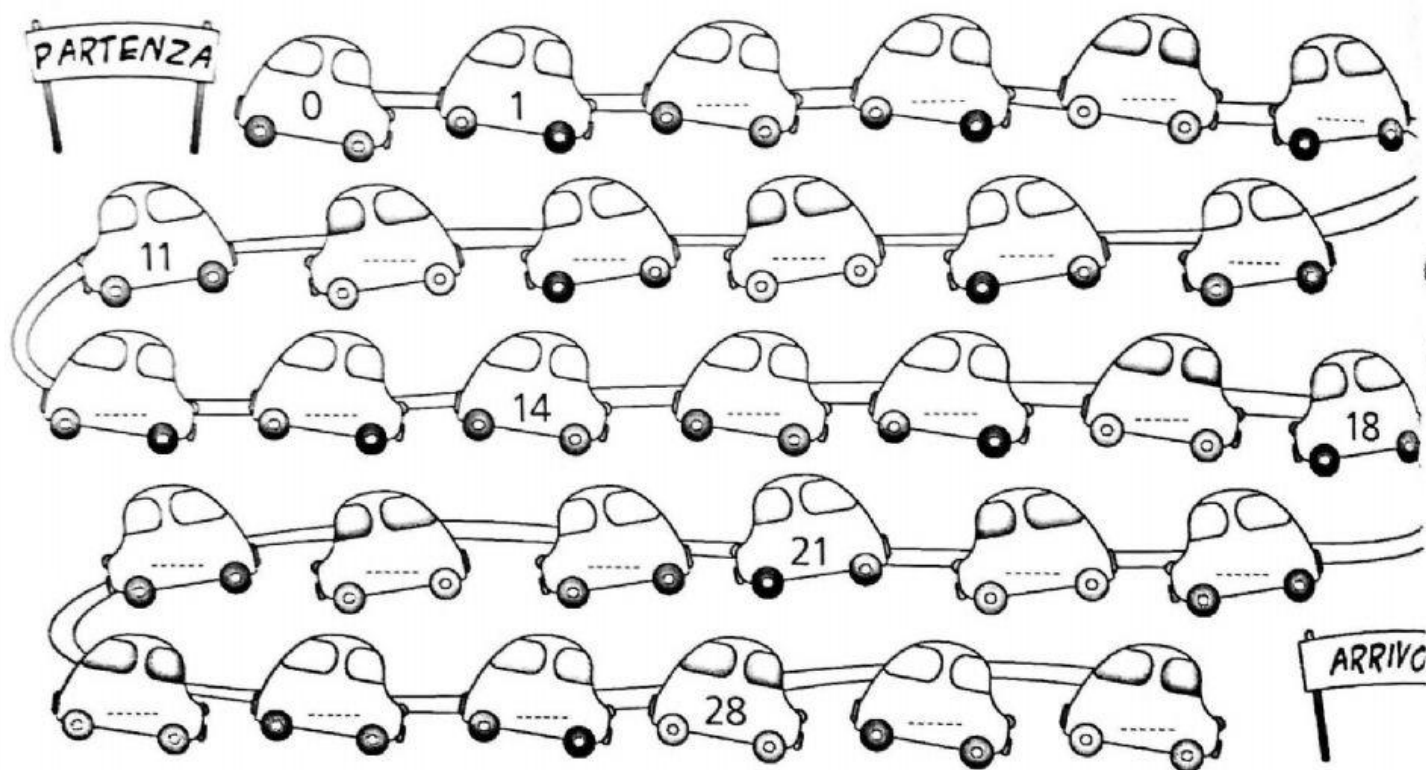




# ORDINARE E SCOMPORRE

1 Completa la successione dei numeri sulle automobiline da corsa da 0 a 30.



2 Scrivi il numero precedente e quello successivo.



3 Cerchia di blu la cifra delle unità e di rosso quella delle decine.

30	27	15
22	29	20
6	2	19

4 Scomponi come nell'esempio.

$$29 = 2 \text{ da e } 9 \text{ u}$$

$$24 = \dots \text{ da e } \dots \text{ u}$$

$$12 = \dots \text{ da e } \dots \text{ u}$$

$$30 = \dots \text{ da e } \dots \text{ u}$$

Obiettivo Conoscere, ordinare e scomporre i numeri naturali entro il 30.