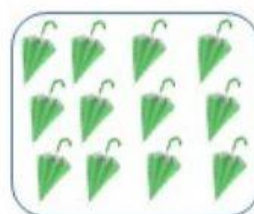






Numeración hasta 15

Cuenta los elementos de cada grupo y únelo con el número correcto



Une cada grupo de palillos con el número que lo representa



12

14

13

10

11

15

Escribe en cada vagón el número correspondiente:

