





Cuerpos geométricos y problemas matemáticos

**Cuerpos geométricos.**


1. ¿Con qué figuras 2D se formó esta flor?



A.




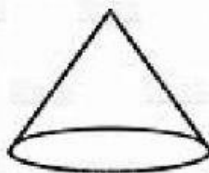
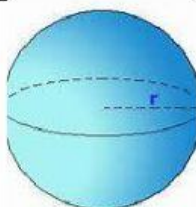

B.



C.



2. Une los objetos con la figura que corresponda.



**Problemas matemáticos.**

**3. Resuelve el siguiente problema matemático.**

Pablo tiene una caja con 16 autitos de juguete. Mientras jugaba se le rompieron 2. ¿Cuántos autitos de juguete le quedan?



**A. ¿Qué operación debo realizar?**



**B. ¿Qué alternativa corresponde a la operatoria?**


$$16 + 2 = 18$$

$$16 - 2 = 14$$

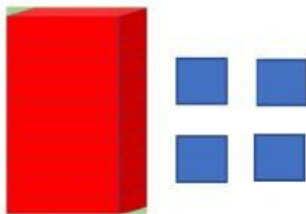
$$14 + 2 = 16$$

**C. ¿Qué alternativa me muestra el resultado en decenas y unidades?**

1.



2.



4. Resuelve el siguiente problema matemático.

Carla ahorró \$80 y compró varios lápices, Si al llegar a casa se da cuenta que solo le quedan \$10. ¿Cuánto dinero gastó?



A. ¿Qué operación debo realizar?



B. ¿Qué alternativa corresponde a la operatoria?

$$80 + 10 = 90$$

$$90 - 80 = 10$$


$$80 - 10 = 70$$

C. ¿Qué alternativa me muestra el resultado en decenas?

1.



2.



5. Resuelve el siguiente problema matemático.

Hoy mi mamá compró 40 mascarillas y mi papá trajo 50 más. ¿Cuántas mascarillas tenemos para nuestra familia?



A. ¿Qué operación debo realizar?



B. ¿Qué alternativa corresponde a la operatoria?


$$50 - 40 = 10$$

$$40 + 10 = 50$$

$$40 + 50 = 90$$

C. ¿Qué alternativa me muestra el resultado en decenas?

1.



2.

