

	Matemática – Profª Cma Lucia Maia		
	Cidade: Polígonos	Data:	
	Nome:	7ª ano	

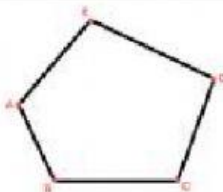
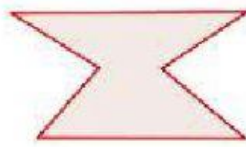


1) Ligue as Colunas relacionando a quantidade de lados e o nome do polígono:

7 lados	
13 lados	
9 lados	
20 lados	




	Icoságono
	Tridecágono
	Eneágono
	Heptágono

2) Arraste a resposta correta de acordo com a classificação do polígono:


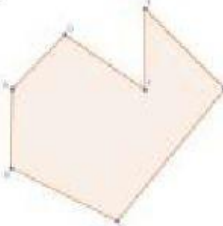
Polígono não convexo	Polígono convexo
----------------------	------------------

3) As figuras planas abaixo **não são polígonos**. Justifique essa afirmação em cada item:

a. 	b. 	c. 
--	--	---

a	
b	
c	

4) Arraste a resposta correta de acordo com o tipo de polígono:

Polígono Regular	Polígono Irregular
-------------------------	---------------------------

5) Efetue os cálculos em seu caderno e responda as questões:

a. O lado de um hexágono regular mede 2,5 cm, portanto podemos afirmar que seu perímetro é?

b. O perímetro de um penta decágono é 75 cm. O valor da medida de cada lado desse polígono é?

