

Adiciones con monedas y billetes

1. Observa la lista de precios. Luego resuelve la adición de las siguientes opciones.

Lista de precios

 Leche S/. 3	 Te: S/ 1 ;	 Pastelito S/. 9
 Cafe S/. 2	 Galletas: S/1 ;	 Churros S/. 8
 Chocolate S/. 5	 Quequito: S/. 5	 Helados S/. 10

A

Leche y churros





Leche			<input style="width: 30px; height: 30px; border: 1px solid red;" type="text"/>
Churros			
Total			SOLES

B

Leche y pastel

Leche			<input style="width: 30px; height: 30px; border: 1px solid red;" type="text"/>
Pastelito			
Total			SOLES

2. Resuelve:

	
S/ 25	S/20
	
S/ 50	S/30

¿Cuánto cuestan una camisa y una falda?

C	D	U	
			<input style="width: 30px; height: 30px; border: 1px solid red;" type="text"/>

S/ 50

S/ 55

S/ 60