
















Arrastra la figura que obtenemos al realizar las siguientes divisiones al lugar que le corresponde:

 : 2 = _____	 : 2 = _____	 : 2 = _____
		

 : 4 = _____	 : 4 = _____	 : 4 = _____
		

 : 8 = _____	 : 8 = _____	 : 8 = _____
