













Nombre y apellido _____

Grado y sección: _____

1. Arrastra cada signo: mayor que, menor que o igual a, en donde corresponda, en cada caso. (Nota: es importante que realices esta actividad en el orden del abecedario)

a) 2.563	<input type="text"/>	2.563		f) 5.321	<input type="text"/>	2.563	
b) 14.657	<input type="text"/>	42.870		g) 63.471	<input type="text"/>	63.500	
c) 8.246	<input type="text"/>	2.541		h) 94	<input type="text"/>	27	
d) 1.502	<input type="text"/>	1.503		i) 3.564	<input type="text"/>	3.564	
e) 84.113	<input type="text"/>	84.113		j) 5.340	<input type="text"/>	12.563	

2. Escribe el número anterior y posterior de las siguientes cantidades. Recuerda colocarle el punto de mil a las cantidades que así lo ameriten

<input type="text"/>	356	<input type="text"/>
----------------------	-----	----------------------

<input type="text"/>	29	<input type="text"/>
----------------------	----	----------------------

<input type="text"/>	874	<input type="text"/>
----------------------	-----	----------------------

<input type="text"/>	9.124	<input type="text"/>
----------------------	-------	----------------------

<input type="text"/>	1.423	<input type="text"/>
----------------------	-------	----------------------

<input type="text"/>	549	<input type="text"/>
----------------------	-----	----------------------

<input type="text"/>	4.876	<input type="text"/>
----------------------	-------	----------------------

<input type="text"/>	789	<input type="text"/>
----------------------	-----	----------------------

<input type="text"/>	8.000	<input type="text"/>
----------------------	-------	----------------------

<input type="text"/>	999	<input type="text"/>
----------------------	-----	----------------------



Docente: