

Examen matemáticas

Primer trimestre

Segundo grado

Docente: Teresa García González



1. Ordena de mayor a menor los 4 juguetes más caros.



2. Ordena de menor a mayor los 4 juguetes más baratos.

3. Observa bien cada numeración y escribe los números que faltan.








35	36	37	
39	40		42
43		45	46
47	48		50
	52	53	54

67	72	77	82
	92		102
	112		122
127		137	142

71	73	75	77
79			85
		91	93
	97	99	101

57	67		87
137	147	157	167
177	187	197	207
217	227	237	247

4. Completa la secuencia, colocando en el signo ? la figura que sigue.



Suma el precio de cada pareja y únelo con el dinero que tienes que dar.



Coloca el cambio correspondiente. (recuerda hacer dibujos si lo necesitas.)

1. Si vas a comprar el rompecabezas y el yoyo. ¿Cuánto dinero te darán de cambio se pagas con 2 billetes de 50 pesos?

2. Vas a comprar la pelota y el rompecabezas. ¿Cuánto te darán de cambio si pagas con un billete de 100?

3. Si compraras el yoyo y el oso. ¿Cuánto cambio te van a dar si vas a dar un billete de 200 pesos y uno de 100?

4. Tengo 32 pesos, le doy la mitad del dinero a mi hermano, él se gasta 4 pesos, de mi dinero gasto el doble de lo que gasto mi hermano. ¿Cuánto me queda?

