

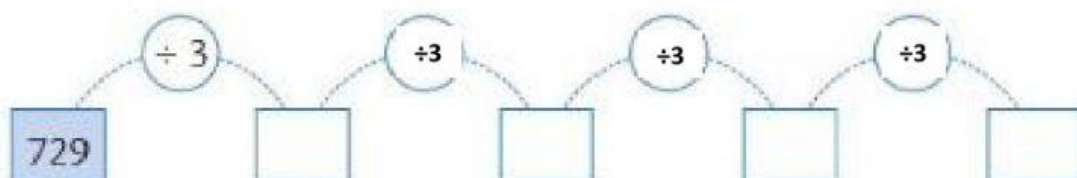


Sucesiones con división

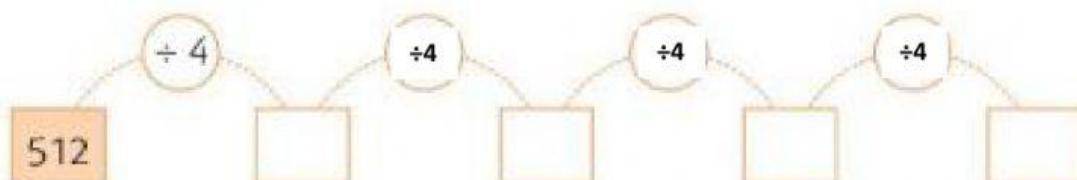


Elabora una sucesión con las condiciones que se dan en cada caso.

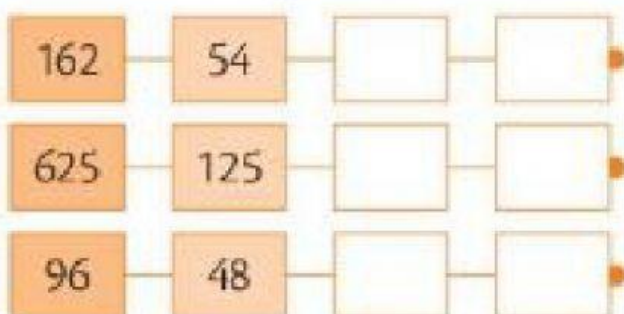
- Sucesión de 5 términos, se inicia en 729 y su patrón es «dividir para 3».



- Sucesión de 5 términos, se inicia en 512 y su patrón es «dividir para 4».



Relaciona cada sucesión con su patrón y escribe los términos que faltan.



- Patrón: $\div 5$
- Patrón: $\div 2$
- Patrón: $\div 3$