




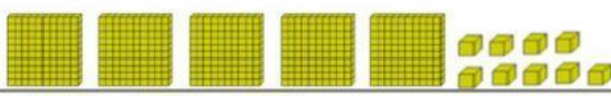





## Números decimais - Introdução


Assista o vídeo para te ajudar responder às questões:

Os colegas **Lídia**, **Pedro**, **Júlia**, **Simone** e **Gustavo** estavam brincando com peças do “material dourado”. Escreva

as quantidades de cada um, conforme os valores dados:

 cubo = 1 Unid	1		<b>Lídia</b>
 placa = 1 décimo	0,1		<b>Pedro</b>
 aste = 1 centésimo	0,01		<b>Júlia</b>
 cubinho = 1 milésimo	0,001		<b>Simone</b>
			<b>Gustavo</b>

Agora escreva os números encontrados no Quadro de Ordem e Classes:

	Parte inteira			vírgula	Parte decimal		
	Classe das unidades				d	c	m
	C	D	U				
<b>Lídia</b>				,			
<b>Pedro</b>				,			
<b>Júlia</b>				,			
<b>Simone</b>				,			
<b>Gustavo</b>				,			