




N. 3 Ordne die Tiere nach ihrem Gewicht. Wandle dazu alles in kg bzw. t um.  
 Schreibe das Ergebnis und die Sortierenreihenfolge hinter die Gewichtsangaben.  
 Alle Tiere außer dem Blauwal sollen auf einen Frachter verladen werden.  
 Berechne die **Ladungssumme**.

	Gewicht in t	Gewicht in kg	Rangfolge
Nilpferd 	2,5 t	kg	
Blauwal 	180 t	kg	
Elch 	t	400 kg	
Elefant 	3,1 t	kg	
Strauß 	t	100 kg	
Grizzly 	t	450 kg	
Ladungssumme	t	kg	

