

Matemática - dinheiro

A1

1. Juntando o valor das moedas, quanto dinheiro temos?



R: _____



R: _____

Matemática - dinheiro

A1R

1

R: 5€

R: 10€

Matemática - dinheiro

A2

1. Juntando o valor das moedas, quanto dinheiro temos?



R: _____



R: _____

Matemática - dinheiro

A2R

1

R: 0,88€ ou 88 cêntimos.

R: 4,25€ ou quatro euros e 25 cêntimos.

Matemática - dinheiro

A3

1. Escreve a leitura dos valores monetários. Repara no exemplo.

2,05€ - Dois euros e cinco cêntimos.

0,01€ - _____

0,55 € _____

5,05 € _____

8,05 € _____

9,09 € _____

9,9 € _____

0,4 € _____

1,5 € _____

Matemática - dinheiro

A3R

1.

2,05€ - Dois euros e cinco cêntimos.

0,01€ - Um cêntimo.

0,55 € Cinquenta e cinco cêntimos.

5,05 € Cinco euros e cinco cêntimos.

8,05 € Oito euros e cinco cêntimos.

9,09 € Nove euros e nove cêntimos.

9,9 € Nove euros e noventa cêntimos.

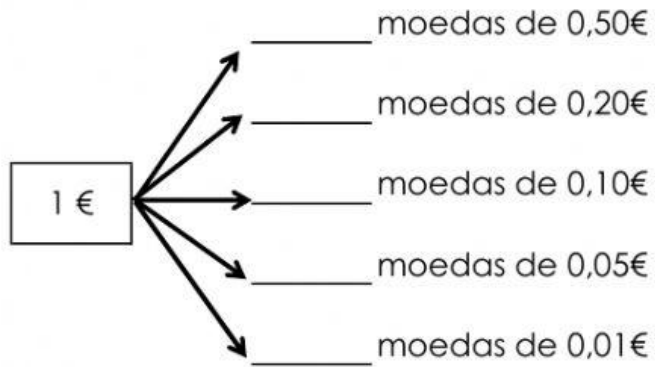
0,4 € Quarenta cêntimos.

1,5 € Um euro e cinquenta cêntimos.

Matemática - dinheiro

A4

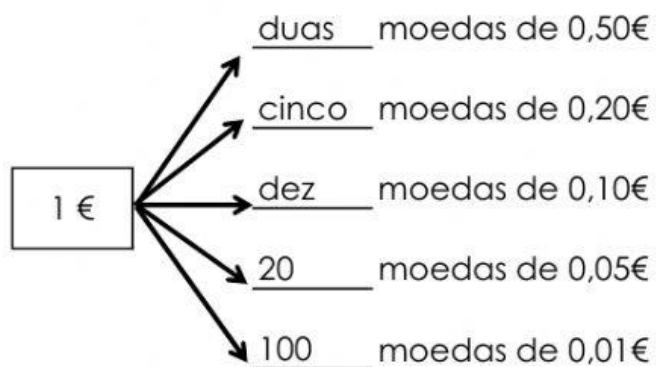
1. Completa o esquema.



Matemática - dinheiro

A4R

1.



Matemática - dinheiro

A5

1. Calcula o valor do dinheiro, somando as notas e moedas.



R: _____



R: _____

Matemática - dinheiro

A5R

1.

R: 28€ ou vinte e oito euros.

R: 66,50€ ou sessenta e seis euros e cinquenta cêntimos.

Matemática - dinheiro

A6

1. Calcula o valor do dinheiro, somando as notas e moedas.



R: _____



R: _____

Matemática - dinheiro

A6R

1.

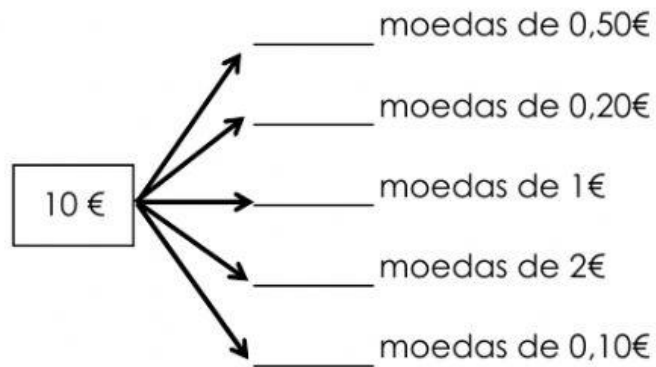
R: 120,05€ ou cento e vinte euros e cinco cêntimos.

R: 305,45€ ou trezentos e vinte euros e quarenta e cinco cêntimos.

Matemática - dinheiro

A7

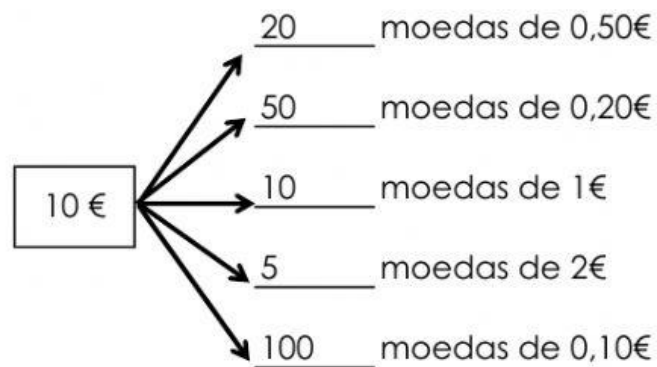
1. Completa o esquema.



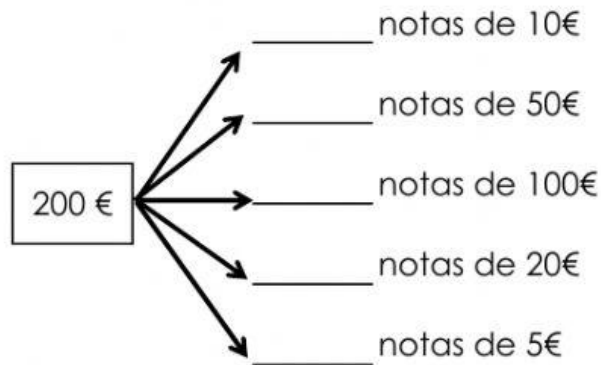
Matemática - dinheiro

A7R

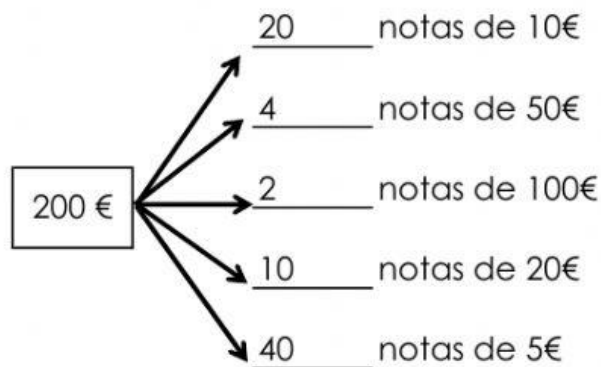
1.



1. Completa o esquema.



1.



Matemática - dinheiro

A9

1. Coloca um dos sinais $>$, $<$ ou $=$.

$1 \text{ €} \quad \square \quad 0,50 \text{ €}$

$2 \text{ €} \quad \square \quad 1,99 \text{ €}$

$1 \text{ €} \quad \square \quad 2 \times 0,50 \text{ €}$

$5 \text{ €} \quad \square \quad 2 \times 2 \text{ €}$

$50 \text{ €} \quad \square \quad 500 \text{ €}$

$25 \text{ €} \quad \square \quad 40,50 \text{ €}$

Matemática - dinheiro

A9R

1.

$1 \text{ €} \quad \square > \quad 0,50 \text{ €}$

$2 \text{ €} \quad \square > \quad 1,99 \text{ €}$

$1 \text{ €} \quad \square = \quad 2 \times 0,50 \text{ €}$

$5 \text{ €} \quad \square > \quad 2 \times 2 \text{ €}$

$50 \text{ €} \quad \square < \quad 500 \text{ €}$

$25 \text{ €} \quad \square < \quad 40,50 \text{ €}$