

Math Homework

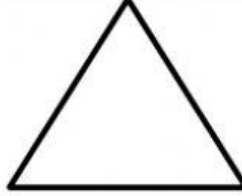



الاسم :

المجموعة :

التاريخ :

1 . أكتب أسماء الأشكال الهندسية التالية :



2 . اختر الإجابة الصحيحة .


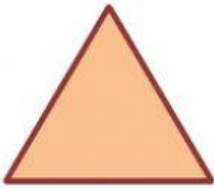
* المربع لديه _____ أضلاع .

* المستطيل لديه _____ رؤوس .

* المثلث لديه _____ زوايا .

* عدد زوايا الدائرة = _____ .

3 . طبق :



مستطيل

مثلث

دائرة

Teacher : Shrooq Alzoubi