




Resuelve las siguientes actividades

Completa la tabla del 2.



Relaciona

$2 \times 1 = 18$

$2 \times 9 = 2$

$2 \times 4 = 10$

$2 \times 7 = 14$

$2 \times 5 = 8$









Toca los cuadros que tengan los resultados de la tabla del 2

1	2	3	18	10
12	5	4	7	9
15	17	14	19	8
6	13	20	6	16



Descubre la figura armando el rompecabezas Tabla Del 2

Arrastra cada pieza al resultado que le corresponde

2x6	2x3	2x4	2x2
			
2x7	2x9	2x5	2x1
			

4	10	14	6
12	8	2	18

