

Fecha: Jueves , 29 de Octubre del 2020

Área: Matemática.

Tema: Composición y descomposición de la familia del 30.

Familia
de 30



$30+0=$	
$30+1=$	
$30+2=$	
$30+3=$	
$30+4=$	
$30+5=$	
$30+6=$	
$30+7=$	
$30+8=$	
$30+9=$	

30

31

32

33

34


35

36

37

38

39



Mini Dinosaur Estrella

Los números y sus nombres

Observa los números y escribe su nombre con letra ordenada:



30 _____

35 _____

31 _____

36 _____

32 _____

37 _____

33 _____

38 _____

34 _____


39 _____

Observa y completa la tabla

Los números del 30 al 39			
D	U	Número	Se lee
3	0	30	Trenta
			Trenta y uno
3	2		
		33	
			Trenta y cuatro
		36	
3	6		
			Trenta y siete
		38	
3	9		


Los números del 30 al 39

1. ¿Qué número es? Cuenta y completa.

 ▶

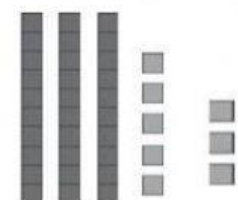
D	U

 decenas y unidad

 ▶

D	U

 decenas y unidades

 ▶

D	U

 decenas y unidades

2. Completa. Después, escribe cómo se lee cada número.

▶ + = _____

▶ + = _____

▶ _____