

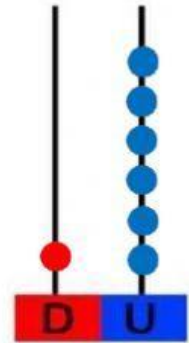
UNIDAD EDUCATIVA BENJAMÍN FRANKLIN
TALLER EN CASA - 2DO QUIMESTRE - 1ER PARCIAL



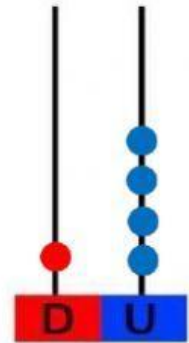
Name: _____ Date: 05 - 11 - 2020
Subject: Matemàtica Teacher: Miss Ainee Olvera G.
Course: Segundo de Bàsica Theme: Valor posicional

1. Une con líneas el número y su representación en el ábaco.

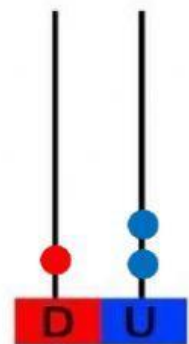
14



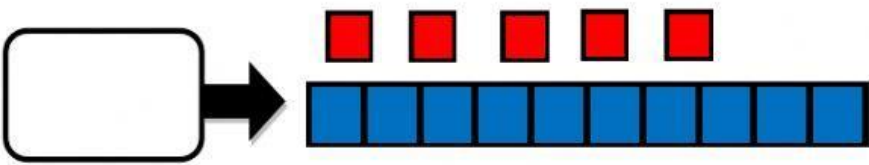
12

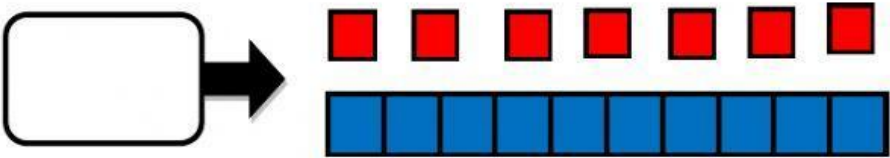



16

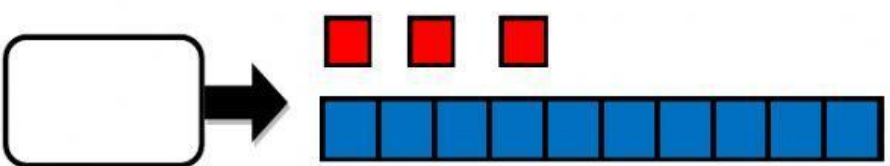


2. Arrastra el número que se representa en base diez.

10 

13 

15 

17 

3. Complete la tabla de valor posicional.

D	U
1	8

D	U
1	9

Valor posicional
_____decena y _____unidades
_____decena y _____unidades