
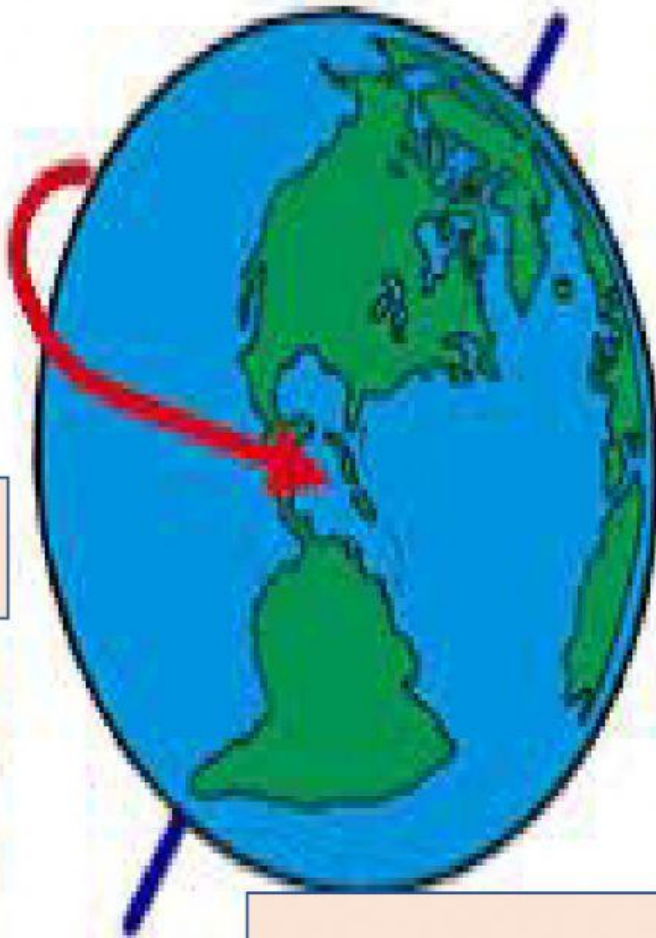
	GESTIÓN ACADÉMICA
	Ejercicio
Estudiante:	Grado: 1° A y B
Docente: Yisell Bazo / Cristina Gutiérrez	Asignatura: Matemáticas
Fecha:	Trimestre: Tercero

MOVIMIENTOS DE LA TIERRA

1-Observa la imagen y escribe el nombre de este movimiento de la tierra que ocurre.





2. Elige la opción correcta.

1. *La tierra en el movimiento de traslación.*

Gira sobre sí mismo

No gira

Gira alrededor del sol

2. *Tenemos estaciones del año debido....*

Movimiento de traslación

Movimiento de la luna

Movimiento de rotación

3. *La tierra tarda en hacer el movimiento de traslación.*

Un día

28 días

1 año

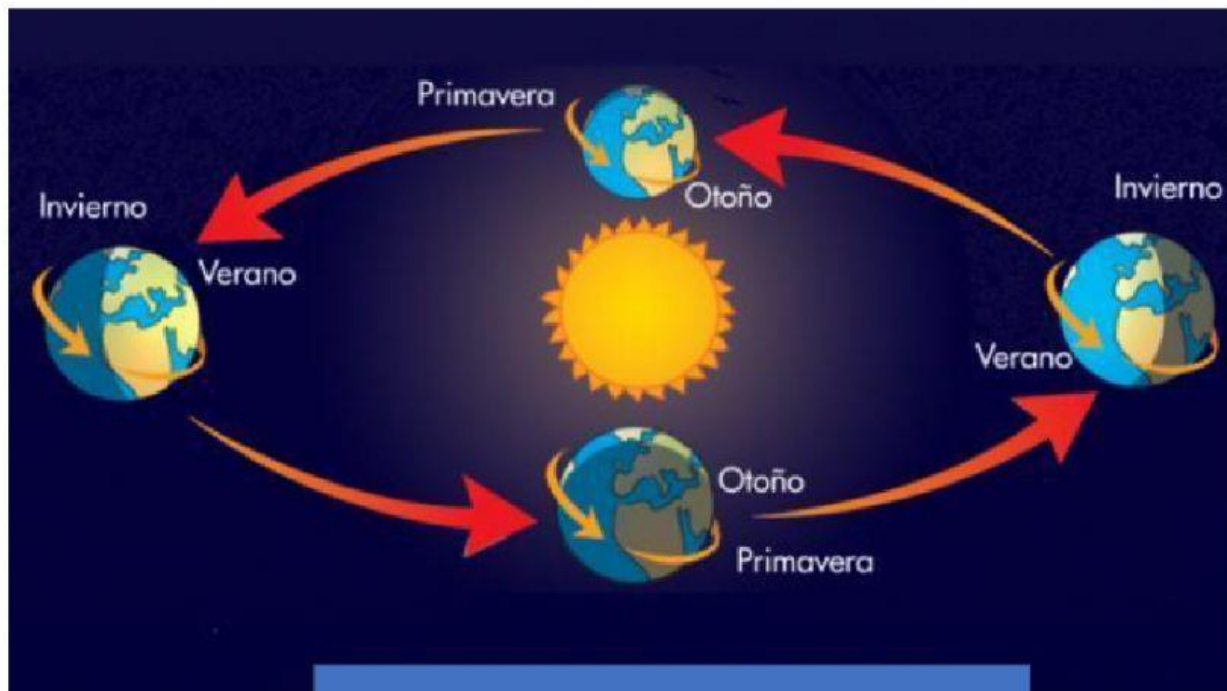
4. *La tierra en el movimiento de rotación tarda.....*

Un año

30 día

Un día

3. Observa este movimiento se llama...



Este movimiento provoca las