



## TEMA: EL MOVIMIENTO

ASIGNATURA: **FÍSICA**

DOCENTE: **Lcdo. THOMAS MUÑOZ**

CURSO: **PRIMERO BGU**

### 1. Una con líneas el concepto que corresponde al término planteado

Un cuerpo está en movimiento cuando .....

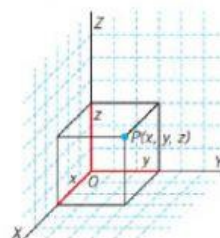
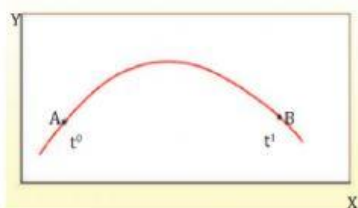
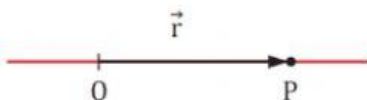
- a. Cambia su unidad de expresión a otra similar.
- b. El sistema de referencia es punto de aplicación fijo.
- c. Cambia de posición con respecto a un sistema de referencia.

### 2. Coloque la palabra junto a la imagen que corresponda

SISTEMA DE REFERENCIA

VECTOR POSICIÓN

TRAYECTORIA



### 3. Escoja la respuesta correcta.

- a. EL vector desplazamiento se representa con
- b. La distancia recorrida es
- c. La trayectoria se define como