
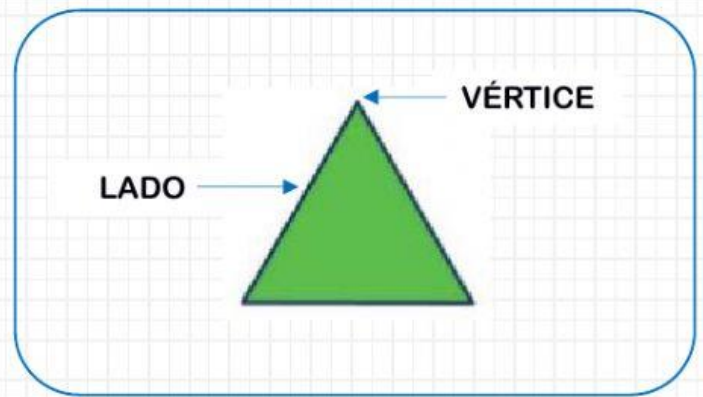
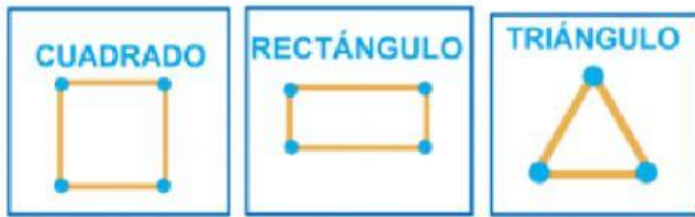





LAS PARTES DE LAS FIGURAS GEOMÉTRICAS

EN ESTAS CONSTRUCCIONES
LOS VÉRTICES SON LAS ●
LOS LADOS SON LOS —

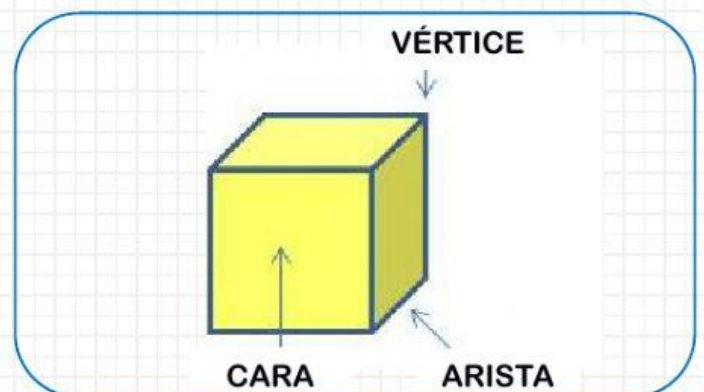
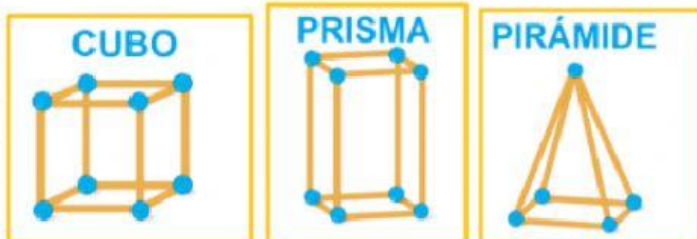


CUENTA Y COMPLETA CON LA CANTIDAD DE VÉRTICES Y
LADOS QUE TIENE CADA FIGURA GEOMÉTRICA




EL 	TIENE	VÉRTICES Y	LADOS.
EL 	TIENE	VÉRTICES Y	LADOS.
EL 	TIENE	VÉRTICES Y	LADOS.

LAS PARTES DE LOS CUERPOS GEOMÉTRICOS

EN ESTAS CONSTRUCCIONES
LOS VÉRTICES SON LAS ●
LAS ARISTAS SON LOS —



CUENTA Y COMPLETA CON LA CANTIDAD DE VÉRTICES Y
ARISTAS QUE TIENE CADA CUERPO GEOMÉTRICO

EL 	TIENE	VÉRTICES Y	ARISTAS.
EL 	TIENE	VÉRTICES Y	ARISTAS.
EL 	TIENE	VÉRTICES Y	ARISTAS.