

# LEMBAR KERJA PESERTA DIDIK

## BANGUN DATAR

A. Cermati video pembelajaran berikut:

<https://www.youtube.com/watch?v=7qQ0gum4lrY>

B. Kerjakan soal-soal berikut

1. Perhatikan gambar berikut!



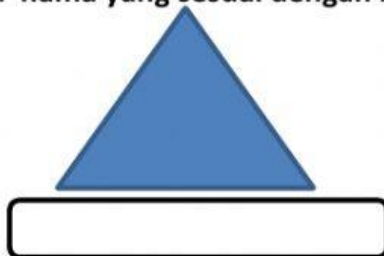
Nama bangun tersebut adalah ....

- A. Persegi
- B. Persegi panjang
- C. Segitiga
- D. Lingkaran

2. Bangun datar yang terbentuk dari himpunan semua titik persekitaran yang berasal dari suatu titik asal dengan jarak yang sama disebut ....

- A. Jajar genjang
- B. Persegi
- C. Belah ketupat
- D. Lingkaran

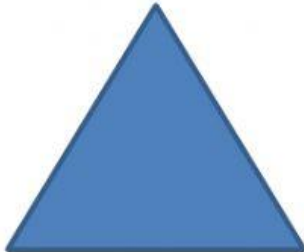
3. Isilah nama yang sesuai dengan bangun datar berikut!




4. Jodohkan dengan menarik garis pada jawaban yang benar



**segitiga**



**belah ketupat**





**lingkaran**

5. Tariklah rumus Luas bangun datar sesuai dengan gambar

**Bangun datar**

**Rumus luas**



$$L = p \times l$$



$$L = \frac{1}{2} \times a \times t$$



$$L = \pi r^2$$