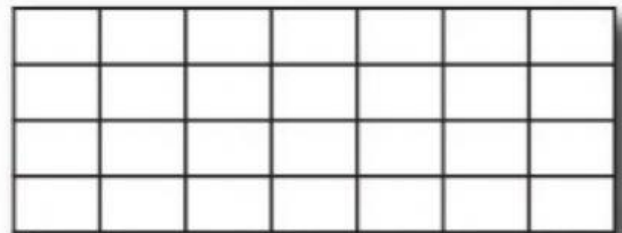

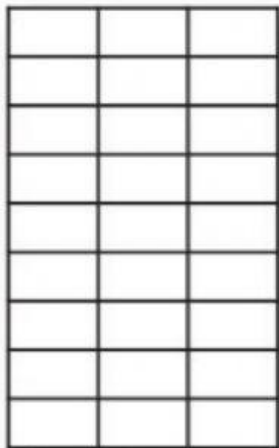


# Completamos la ficha según corresponda:

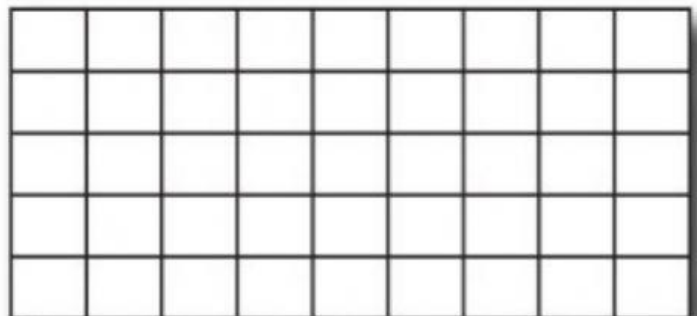
1. Acá hay distintos patios de forma rectangular. ¿Cuántas baldosas se necesitan para cubrir cada uno? Escribí debajo la cantidad que corresponde.



.....



.....



.....

.....

¿Cómo hicieron para averiguar cuántas baldosas hay en cada uno? ¿Es posible usar alguna cuenta? ¿Cuál?