

Restas llevando

1 Calcula las restas y completa la tabla.



$$\begin{array}{r} 4283 \\ - 2516 \\ \hline \end{array}$$



$$\begin{array}{r} 37204 \\ - 5296 \\ \hline \end{array}$$



$$\begin{array}{r} 52640 \\ - 27284 \\ \hline \end{array}$$



$$\begin{array}{r} 60253 \\ - 6278 \\ \hline \end{array}$$



$$\begin{array}{r} 70108 \\ - 5973 \\ \hline \end{array}$$



$$\begin{array}{r} 92601 \\ - 756 \\ \hline \end{array}$$

	Minuendo	Sustraendo	Diferencia
			
			
			
			
			
			

2 Calcula las restas y escribe cuál es su diferencia.

Minuendo ► 5.034

Sustraendo ► 2.856

La diferencia es...

Minuendo ► 9.056

Sustraendo ► 857

La diferencia es...

Minuendo ► 40.170

Sustraendo ► 8.465

La diferencia es...


Minuendo ► 82.032

Sustraendo ► 999

La diferencia es...

3 Piensa y relaciona.

-  El minuendo.
-  El sustraendo.
-  La diferencia.

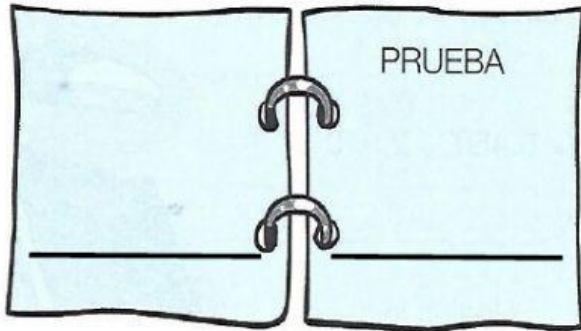


4 Coloca los números y resta. Después, haz la prueba.

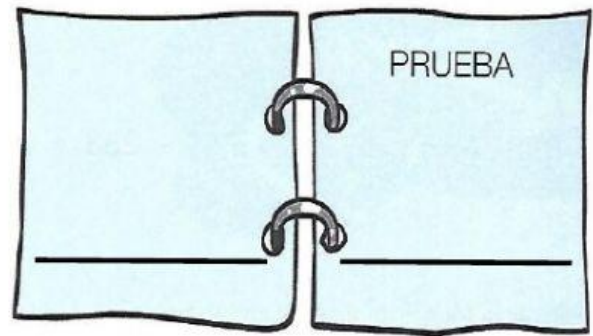
Una resta está bien hecha si se cumple que:
sustraendo + diferencia = minuendo




■ $9.065 - 894$



■ $12.340 - 6.897$



5 Observa el dibujo y resuelve.



■ ¿Cuántas vacas menos que cerdos hay en la granja?

OPERACIÓN

SOLUCIÓN

Hay _____ vacas menos que
cerdos. _____

■ ¿Cuántas gallinas más que cabras hay en la granja?

OPERACIÓN

SOLUCIÓN

Hay _____ gallinas más que
cabras. _____

■ ¿Cuántas gallinas más que cerdos hay en la granja?

OPERACIÓN

SOLUCIÓN

Hay _____ gallinas más que
cerdos. _____