

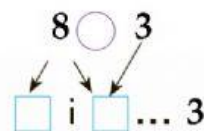
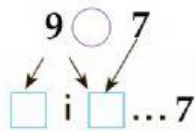
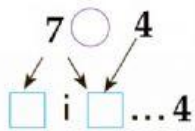
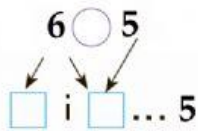
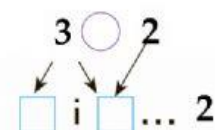
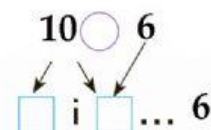
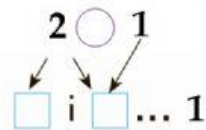
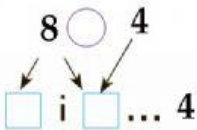
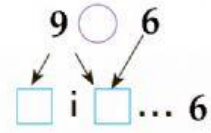
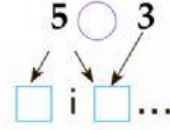
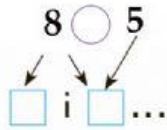
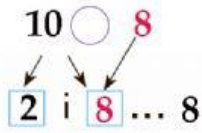
Тиждень 10 Порівнюємо числа

(ім'я)

___ листопада



Порівняй числа за їх складом, користуючись схемами.



Встав у рівності пропущені числа.

$7 + \dots = 10$	$3 + \dots = 10$	$2 + \dots = 9$	$6 + \dots = 9$
$\dots + 2 = 10$	$\dots + 3 = 10$	$\dots + 4 = 9$	$\dots + 5 = 9$
$6 + \dots = 10$	$4 + \dots = 10$	$3 + \dots = 9$	$1 + \dots = 9$
$\dots + 8 = 10$	$\dots + 9 = 10$	$7 + \dots = 9$	$\dots + 2 = 6$



Доповни схеми. Знайди вираз до кожної схеми.

