


# DÍA 2

---

✚ OBSERVAMOS LAS SIGUIENTES FIGURAS GEOMETRICAS Y SUS NOMBRES.



✚ LOS CHICOS DE 3º HICIERON CARTELES PARA COLOCAR EN EL AULA.



✚ ESCRIBE EL NOMBRE DE LA FIGURA GEOMÉTRICA QUE CORRESPONDE:

✚ ¿QUÉ FIGURA GEOMÉTRICA DIBUJÓ **ANDRÉS**?

---

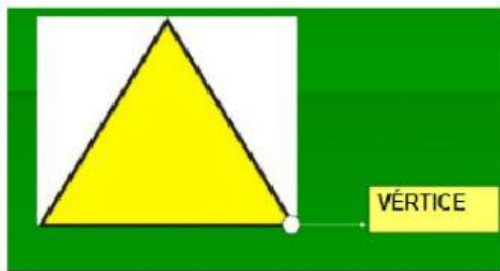
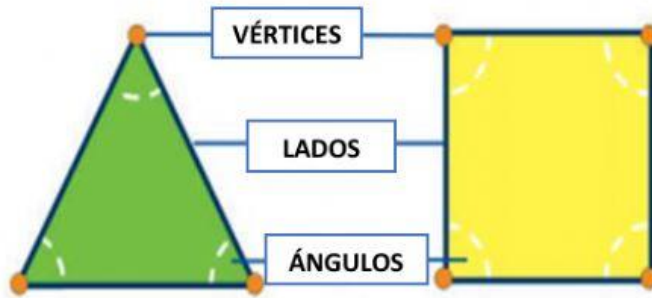
✚ ¿CÓMO SE LLAMA LA FIGURA GEOMÉTRICA, QUE DIBUJÓ **PABLO**?

---

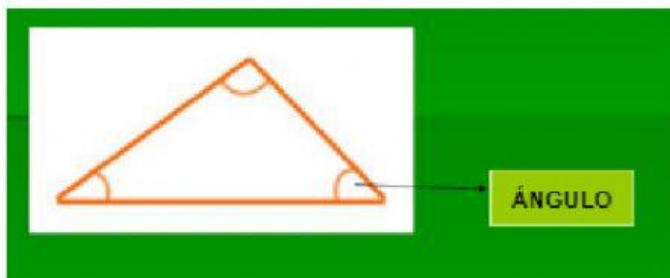
☀ **MALENA** ¿DIBUJÓ UN RECTÁNGULO? ¿SI O NO? ¿QUÉ FIGURA DIBUJÓ?

---

✚ **ELEMENTOS DE LAS FIGURAS GEOMÉTRICAS:**




UN PUNTO, DONDE 2 O MÁS LINEAS SE ENCUENTRAN, ESQUINA.




ÁNGULO, ES UNA FIGURA FORMADA POR 2 O MÁS LINEAS QUE PARTEN DE UN MISMO PUNTO.

✚ **CUENTA LOS LADOS DE LAS FIGURAS Y MARCA EL QUE CORRESPONDE:**

<b>CUADRADO</b>		
		
2	4	3

<b>CÍRCULO</b>		
		
0	1	6

<b>ROMBO</b>		
		
6	8	4

<b>TRIÁNGULO</b>		
		
3	4	1