

Nombre y apellido:

Fecha:

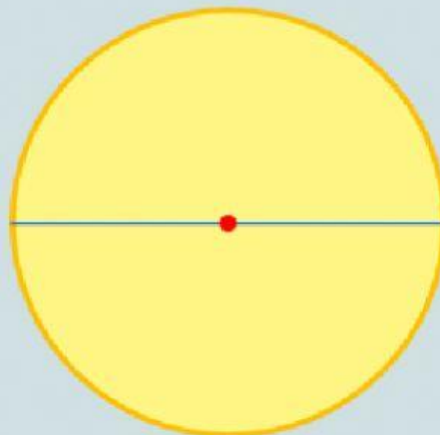
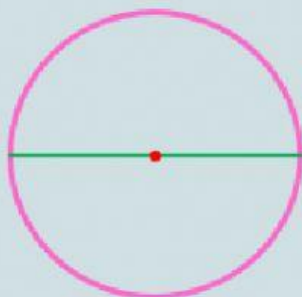


CIRCUNFERENCIA Y CÍRCULO ELEMENTOS II

1. Medí y completá:

- El radio del círculo. _____ cm.
- El diámetro del círculo. _____ cm.
- El radio de la circunferencia. _____ cm.
- El diámetro de la circunferencia. _____ cm.
- El diámetro de un círculo o una circunferencia mide el que su radio.

usa la regla



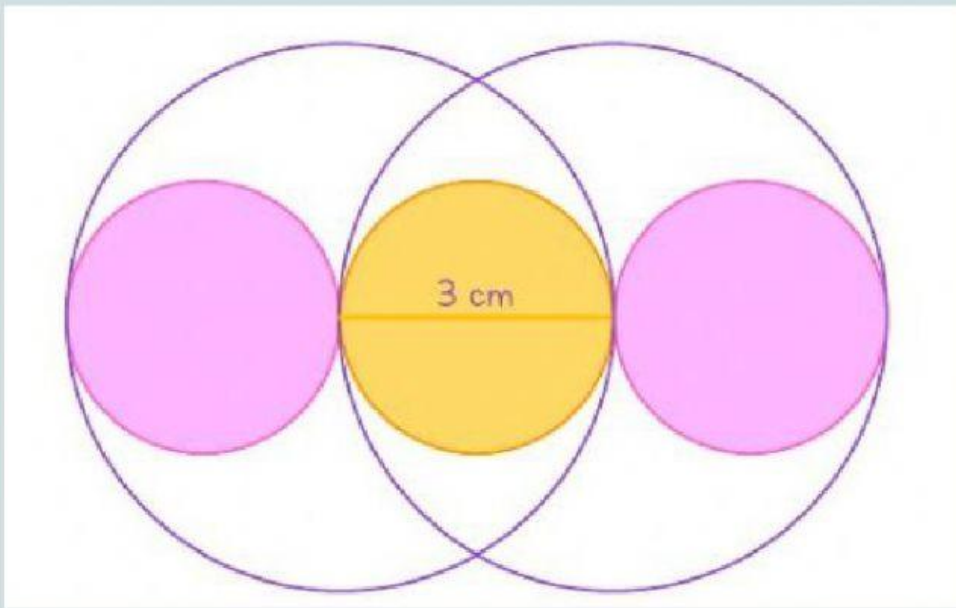
Deja aquí la
regla



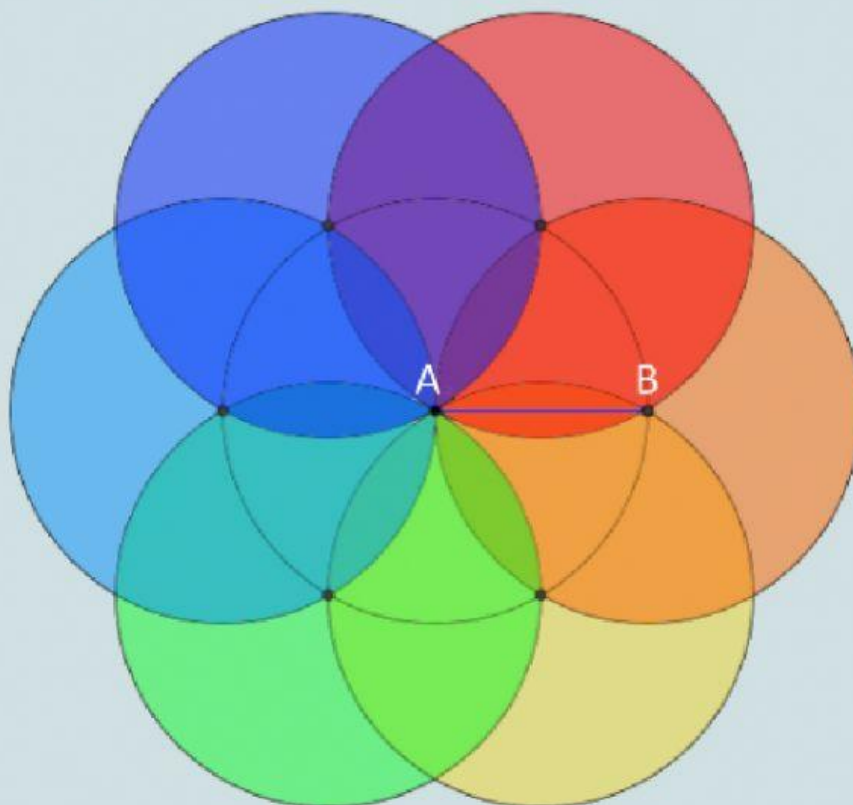
2. Fíjate en el dibujo que ha hecho Silvia:

- ¿Cuántos círculos ha dibujado? _____
- ¿Y cuántas circunferencias? _____

- Si el diámetro de los círculos es 3 cm. ¿Cuál será el diámetro de las circunferencias? _____ cm. ¿Cómo lo has calculado?



3. Mirá el dibujo que ha hecho Alex.



- ¿Qué ha utilizado Alex? Círculos Circunferencias
- ¿Cuántas circunferencias ha utilizado? _____ ¿y círculos? _____
- Si el segmento AB mide 3 cm. ¿Cuánto mide el radio? _____ cm. ¿Y el diámetro? _____ cm.

