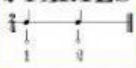







Ejercicios de compases.



Instrucciones: Observa las siguientes figuras musicales, suma sus tiempos y luego identifica que tipo de compás contienen.

Para lograrlo recuerda que:

LENGUAJE MUSICAL

2 4	2 PARTES  1 2	FIGURA QUE DURA UNA PARTE 	EJEMPLO 
3 4	3 PARTES  1 2 3	FIGURA QUE DURA UNA PARTE 	EJEMPLO 
4 4	4 PARTES  1 2 3 4	FIGURA QUE DURA UNA PARTE 	EJEMPLO 
6 8	6 TERCIOS  1 2 3 4 5 6	FIGURA QUE DURA UN TERCIO 	EJEMPLO 
9 8	9 TERCIOS  1 2 3 4 5 6 7 8 9	FIGURA QUE DURA UN TERCIO 	EJEMPLO 
12 8	12 TERCIOS  1 2 3 4 5 6 7 8 9 10 11 12	FIGURA QUE DURA UN TERCIO 	EJEMPLO 

Lección 11
Lenguaje musical



Séptimo y octavo básico

