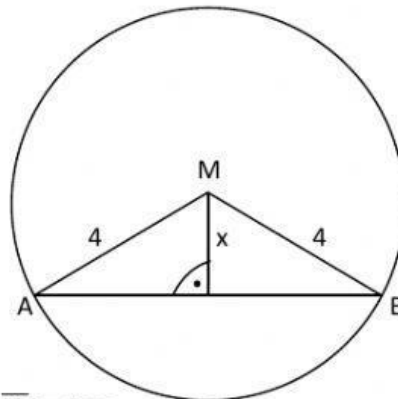
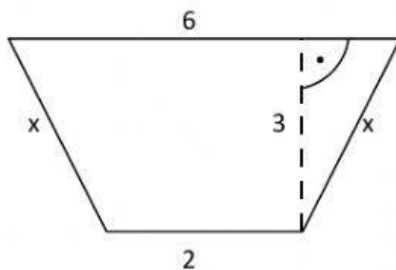
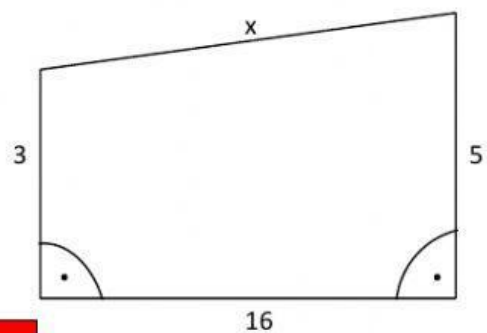
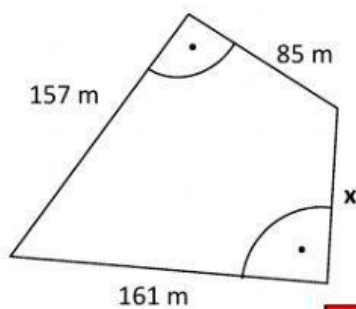
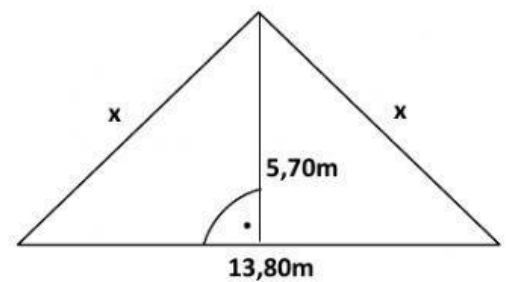
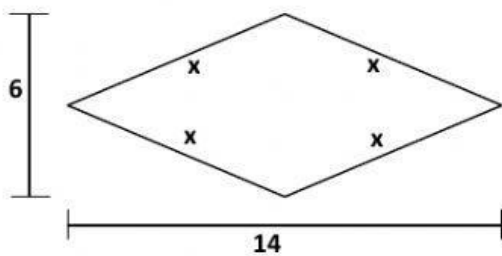
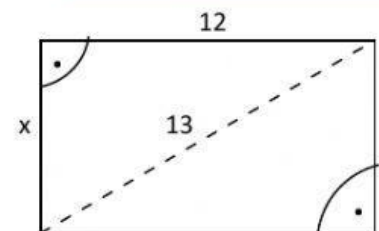


Ergebnisse bitte gerundet
auf genau eine
Kommastelle!



$\overline{AM} = 4\text{cm}$
 $\overline{AB} = 6\text{cm}$



Ergebnisse bitte gerundet
auf genau eine
Kommastelle!

Sternchenaufgaben:

- * Welche Kantenlänge hat ein Quadrat mit 10cm Diagonale?
- * Wie hoch ist ein gleichseitiges Dreieck mit 5cm Kantenlänge?