

NOMBRA ESTOS POLÍGONOS!

ESCRIBE EL NOMBRE DE ESTOS POLÍGONOS DE ACUERDO AL NÚMERO DE LADOS




4 LADOS




CINCO LADOS




SEIS LADOS



SIETE LADOS



OCHO LADOS



NUEVE LADOS

FECHA: _____