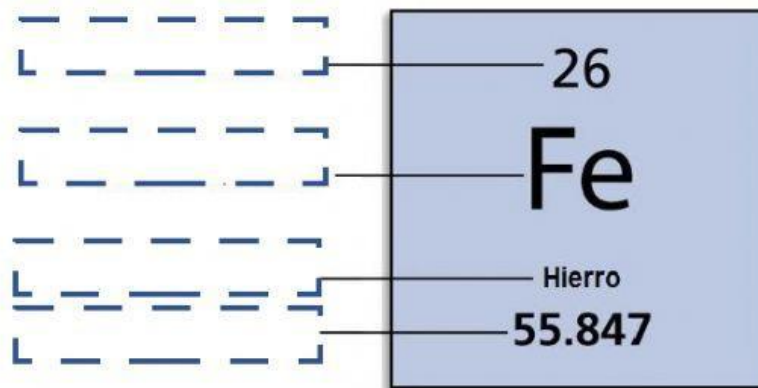


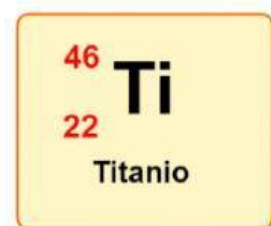
**Unidad 2:** El concepto del átomo y sus modelos atómicos

**Tema:** Contando protones, electrones y neutrones (13pts)

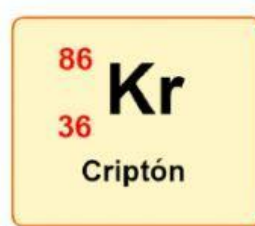
I. Identifica las siguientes partes (4pts).



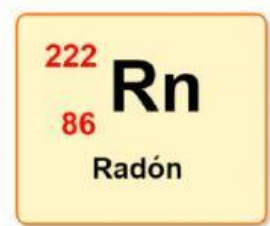
II. Observe cada elemento e identifique cuantos protones, electrones y neutrones tiene (9pts).



protones: \_\_\_\_\_  
electrones: \_\_\_\_\_  
neutrones: \_\_\_\_\_



protones: \_\_\_\_\_  
electrones: \_\_\_\_\_  
neutrones: \_\_\_\_\_



protones: \_\_\_\_\_  
electrones: \_\_\_\_\_  
neutrones: \_\_\_\_\_