



MATEMÁTICAS EN CASA I.E. HERNÁN TORO AGUDELO

Tema: Problemas con sumas
de números hasta 999



NOMBRE DEL ESTUDIANTE: _____

1. Observa el siguiente video



2. Resolvamos el problema planteado en el video

Danna e Ivanna para realizar su tarea de Arte, necesitan crayolas. Danna tiene 13 crayolas e Ivanna 15.

¿Cuántas crayolas tienen entre las dos?



1. Comprende

a. Lee de nuevo el problema

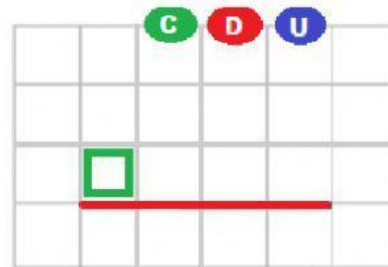
b. ¿Qué información te dan?

Crayolas que tiene Danna:

Crayolas que tiene Ivanna:

c. ¿Qué te piden?

3. Resuelve



2. Planifica

¿Qué operación debes realizar para resolver el problema?

Respuesta: Entre Danna e Ivanna tienen crayolas.

3. Resolvamos un segundo ejemplo.

Carlos y Lucía están reuniendo dinero para comprar un regalo para su mamá. Observa la cantidad de dinero que ha reunido cada uno.



¿Cuánto dinero tienen entre los dos para comprar el regalo de su mamá?

1. Comprende

a. Lee de nuevo el problema

b. ¿Qué información te dan?

Dinero de Carlos:

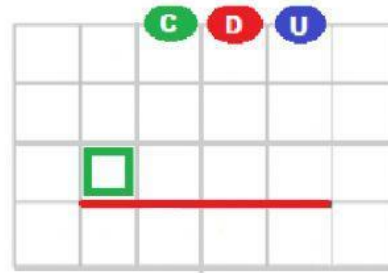
Dinero de Lucía:

c. ¿Qué te piden?

2. Planifica

¿Qué operación debes realizar para resolver el problema?

3. Resuelve



Respuesta: Entre los dos tienen para comprar el regalo de su mamá.

4. Realicemos un último problema

Sebastián tenía en su colección 324 estampillas y para su cumpleaños le regalaron 387 estampillas. ¿Cuántas estampillas tiene ahora Sebastián?



1. Comprende

a. Lee de nuevo el problema

b. ¿Qué información te dan?

Número de estampillas:

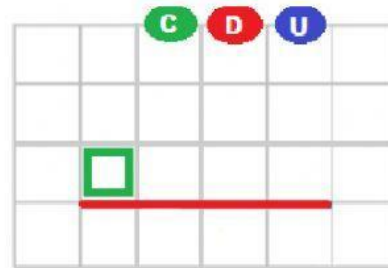
Número de estampillas que le regalaron:

c. ¿Qué te piden?

2. Planifica

¿Qué operación debes realizar para resolver el problema?

3. Resuelve



Respuesta: Sebastián tiene ahora estampillas.

¡¡Muchos éxitos!!

