

Destreza:

M.3.2.6. Calcular el perímetro de triángulos; deducir y calcular el área de triángulos en la resolución de problemas.

PASOS PARA COMPLETAR LA FICHA:

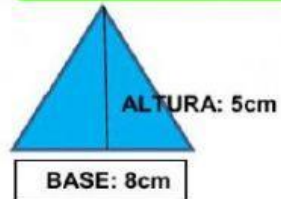
SIN ESPACIOS

Ejemplo de área: 50cm²

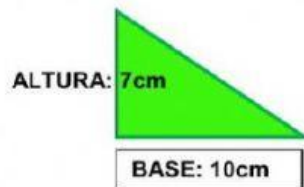
Ejemplo de perímetro: 6cm

Nombre: _____ Grado: Sexto _____ Fecha: _____

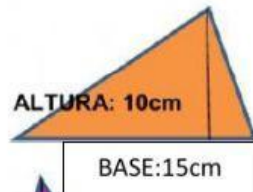
Calcula el área de estos triángulos



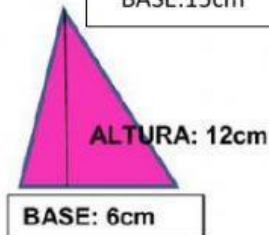
ÁREA:



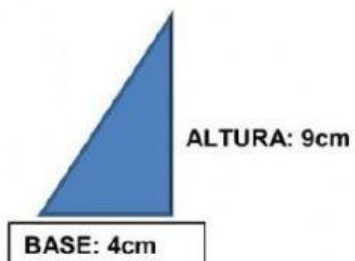
ÁREA:



ÁREA:

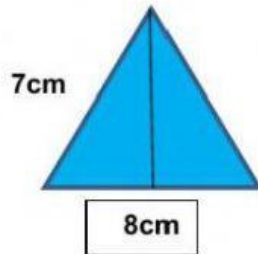


ÁREA:

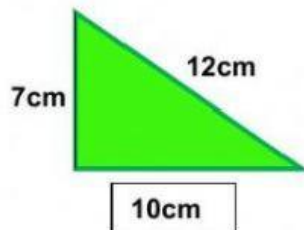


ÁREA:

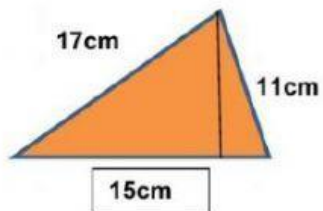
Calcula el perímetro de estos triángulos.



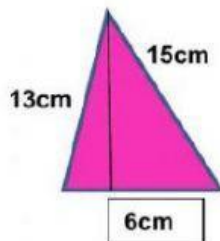
PERÍMETRO:



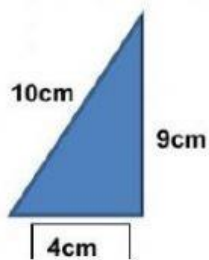
PERÍMETRO:



PERÍMETRO:



PERÍMETRO:



PERÍMETRO: