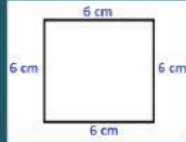




PERÍMETRO

Recuerda!!!! El perímetro es la suma de todos los lados de una figura geométrica.

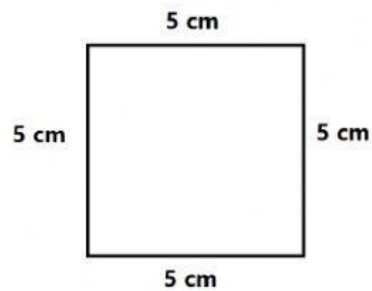


Ejemplo:

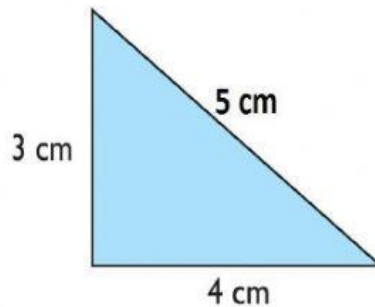
$$P = 6\text{ cm} + 6\text{ cm} + 6\text{ cm} + 6\text{ cm} = 24\text{ cm}$$

I) Ahora, calcula el perímetro de las siguientes figuras:

a)



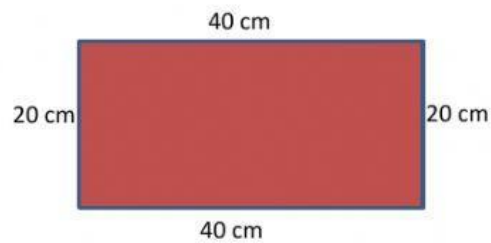
P= **cm.**



P= **cm.**

b)

c)



P= **cm.**

d)

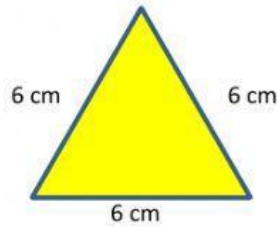


P= **cm.**



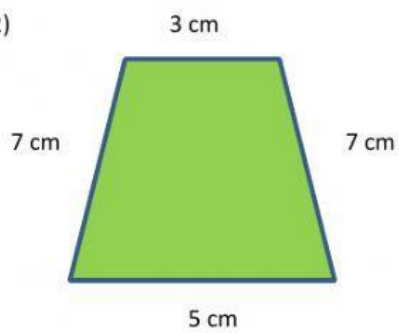
II) Ahora une cada figura con el perímetro correcto:

1)



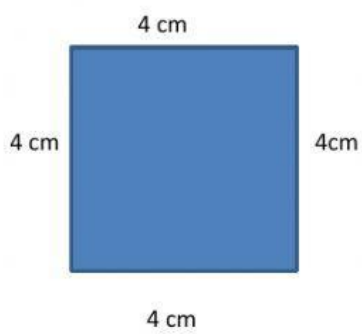
P= 26 cm

2)



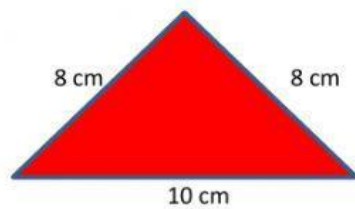
P= 16 cm

3)



P= 22 cm

4)



P= 18 cm