



PEMERINTAH PROVINSI KALIMANTAN TENGAH
DINAS PENDIDIKAN
SMK NEGERI 2 BUNTOK





Jalan: Soekarno-Hatta Sababilah -Barito Selatan Prov. Kalimantan Tengah Kode Pos:73715
No. Kontak : 081349415297 web:www.smkn2buntok.sch.id Email: smkn2buntok@gmail.com

PENILAIAN HARIAN KD 3.15. MENGANALISIS STRUKTUR GEOLOGI

Mata Pelajaran : Pemetaan Geologi
Hari / Tanggal : Selasa / 20 Oktober 2020
Kelas : XII Geologi Pertambangan

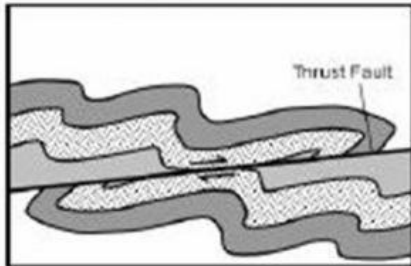
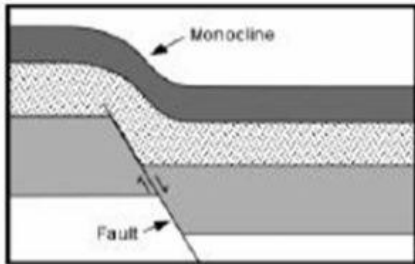
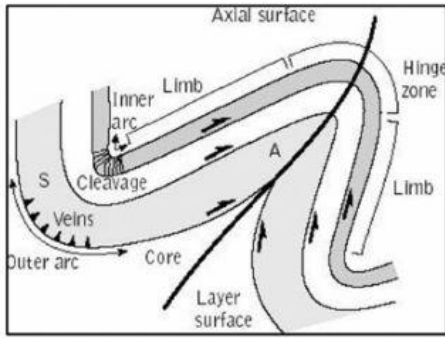
Nama
Kelas

A. Jawablah soal uraian berikut dengan tepat dan benar

NASKAH SOAL	POIN
1. Buatlah uraian untuk menjelaskan definisi geologi struktur	5
2. Buatlah uraian tujuan mempelajari geologi struktur	10
3. Pada gambar berikut adalah kenampakan kekar dilapangan. Sebutkan nama jenis kekar dan buatlah analisa dari gambar tersebut  	15

4. Buatlah analisa dari gambar berikut mengenai hubungan lipatan dan patahan

25



5. Patahan / sesar adalah struktur rekahan yang telah mengalami pergeseran. Umumnya disertai oleh struktur yang lain seperti lipatan, rekahan, buatlah uraian indikasi sesar dilapangan

10

6. Pada gambar berikut adalah kenampakan kekar dilapangan. Sebutkan nama jenis kekar dan buatlah analisa dari gambar tersebut

35

