


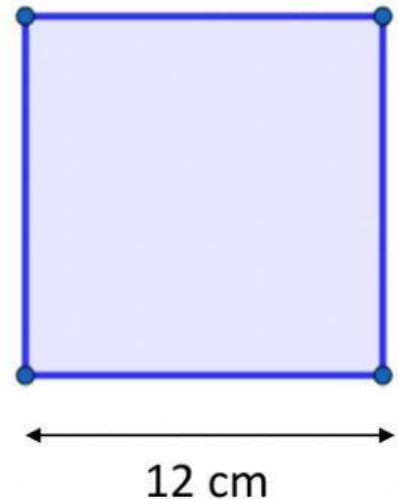
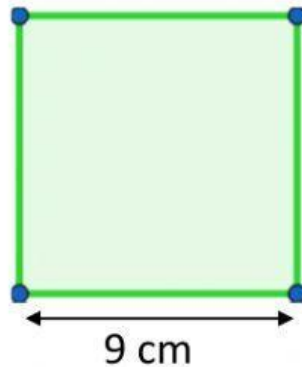
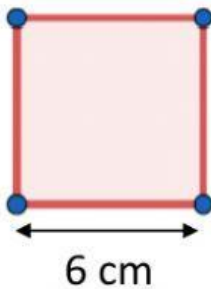
Áreas y perímetros I

1. Indicá qué superficie tiene la siguiente figura en unidades cuadradas.



Área: unidades cuadradas.

2. Calculá el perímetro y el área de cada uno de los siguientes cuadrados.



Perímetro= cm

Perímetro= cm

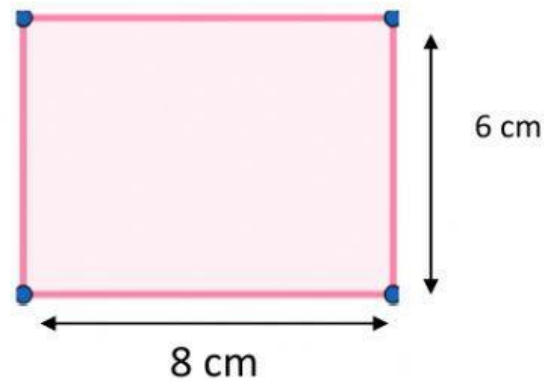
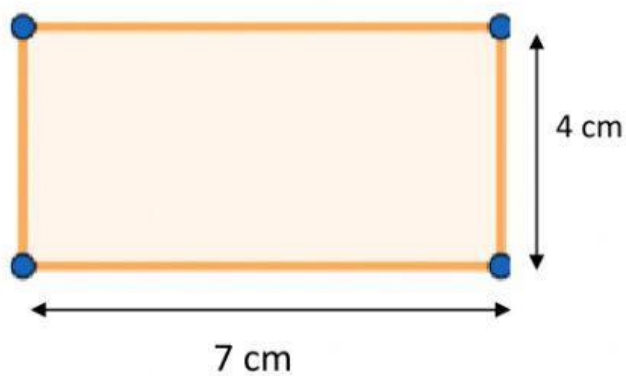
Perímetro= cm

Área= cm²

Área= cm²

Área= cm²

3. Calculá el área de estas figuras.



Área= cm^2

Área= cm^2

4. Si la base de un rectángulo mide 15 cm y la altura, 9 cm.

- ¿Cuál es su perímetro?

Su perímetro es de cm.

- ¿Cuál es su área?

Su área es de cm^2 .