

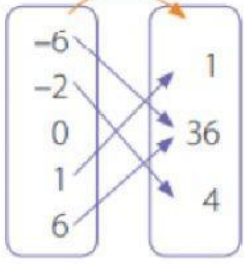
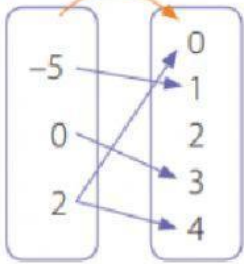
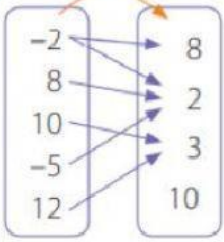
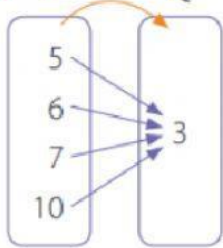


Instituto Bicentenario
Javier Carrera Verdugo
I. Municipalidad de San Antonio

Funciones

8° básico

1. Observa cada de imagen e indica si representa una función o no.

<p>a. $A \xrightarrow{f} B$</p> 	<p>Es función</p>	<p>No es función</p>
<p>b. $C \xrightarrow{g} D$</p> 	<p>Es función</p>	<p>No es función</p>
<p>c. $M \xrightarrow{h} N$</p> 	<p>Es función</p>	<p>No es función</p>
<p>d. $P \xrightarrow{k} Q$</p> 	<p>Es función</p>	<p>No es función</p>

2. Completa las tablas de valores.

$$\text{Si } f(x) = 2 \cdot x - 1$$

x	0	1	2	3	4	5
$f(x)$						

$$\text{Si } f(x) = 4 \cdot x + 9$$

x	0	1	2	3	4	5
$f(x)$						

$$\text{Si } f(x) = x + 10$$

x	0	1	2	3	4	5
$f(x)$						