


Recordamos lo aprendido

Sustracciones pasando por la decena


Desempeño: Utiliza estrategias para resolver operaciones de adición y sustracción.

1. Resuelve las operaciones usando tu tablero del 20


14	-	9	=		
<hr style="border: 1px solid green;"/>					
	-		=		
	-		=		




15	-	7	=		
<hr style="border: 1px solid green;"/>					
	-		=		
	-		=		




13	-	8	=		
<hr style="border: 1px solid green;"/>					
	-		=		
	-		=		



11	-	5	=		
<hr style="border: 1px solid green;"/>					
	-		=		
	-		=		



18	-	9	=		
<hr style="border: 1px solid green;"/>					
	-		=		
	-		=		



17	-	9	=		
<hr style="border: 1px solid green;"/>					
	-		=		
	-		=		

