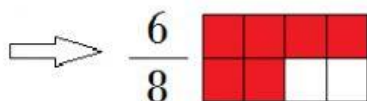


FRACCIONES 1

Acordate que...

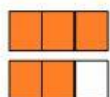
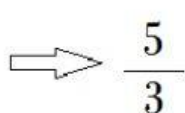
Fracción
propia

(Numerador menor que el denominador)



Fracción
impropia

(Numerador mayor que el denominador)



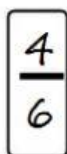

También puede escribirse como
fracción mixta

$\Rightarrow 1\frac{2}{3}$

Un entero y dos tercios

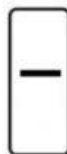
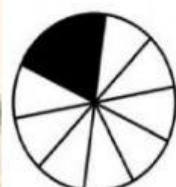
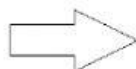
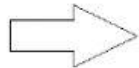
1. Completá según lo pedido

¿Qué fracción representa
las zonas coloreadas?



¿Cómo se lee esa fracción?

cuatro sextos



2. Arrastra cada fracción hacia el grupo de fracciones donde pertenece

$$\begin{array}{cccccc} \frac{15}{12} & \frac{6}{9} & \frac{4}{3} & \frac{12}{20} \\ \frac{11}{16} & \frac{10}{6} & \frac{17}{28} & \frac{12}{5} \\ \frac{5}{8} & \frac{9}{7} & & \end{array}$$

PROPIAS

IMPROPIAS

3. Completa con la fracción mixta

