

EVALUACIÓN DE PERSONAL SOCIAL

TERCER BIMESTRE

ESTUDIANTE:.....

GRADO: PRIMERO SECCIÓN: AMARILLO

PROF: Eugenia Mendoza Flores Fecha: 13/10/2020


1. Clasifica las señales de tránsito arrastrando a su respectivo lugar al que pertenece.



Señales reguladoras	Señales preventivas	Señales informativas	Señales horizontales



2. Observa las imágenes de acciones de los peatones y pasajeros y selecciona si es positiva o negativa según corresponda.



3. Clasifica uniendo con flechas los desastres naturales y desastres provocados por el hombre.



Desastres
Naturales



Provocadas
por el
hombre




4. Identifica las acciones positivas 😊 y negativas ☹️ que debes realizar antes durante y después



5. Selecciona cual es la entidad encargada de prevenir, orientar y apoyar en el plan de riegos ante los peligros ocasionados por los desastres de forma permanente.



6. Arrastra los nombres de las fuentes de la historia que corresponde a cada imagen.



Fuente oral

Fuente grafica

Fuente escrita

Fuente material

Fuente material

Fuente oral

7. Une con flechas las características del hombre primitivo nómade y sedentario.

Nómade



Vivía en un solo lugar formando aldeas a partir del descubrimiento de la agricultura

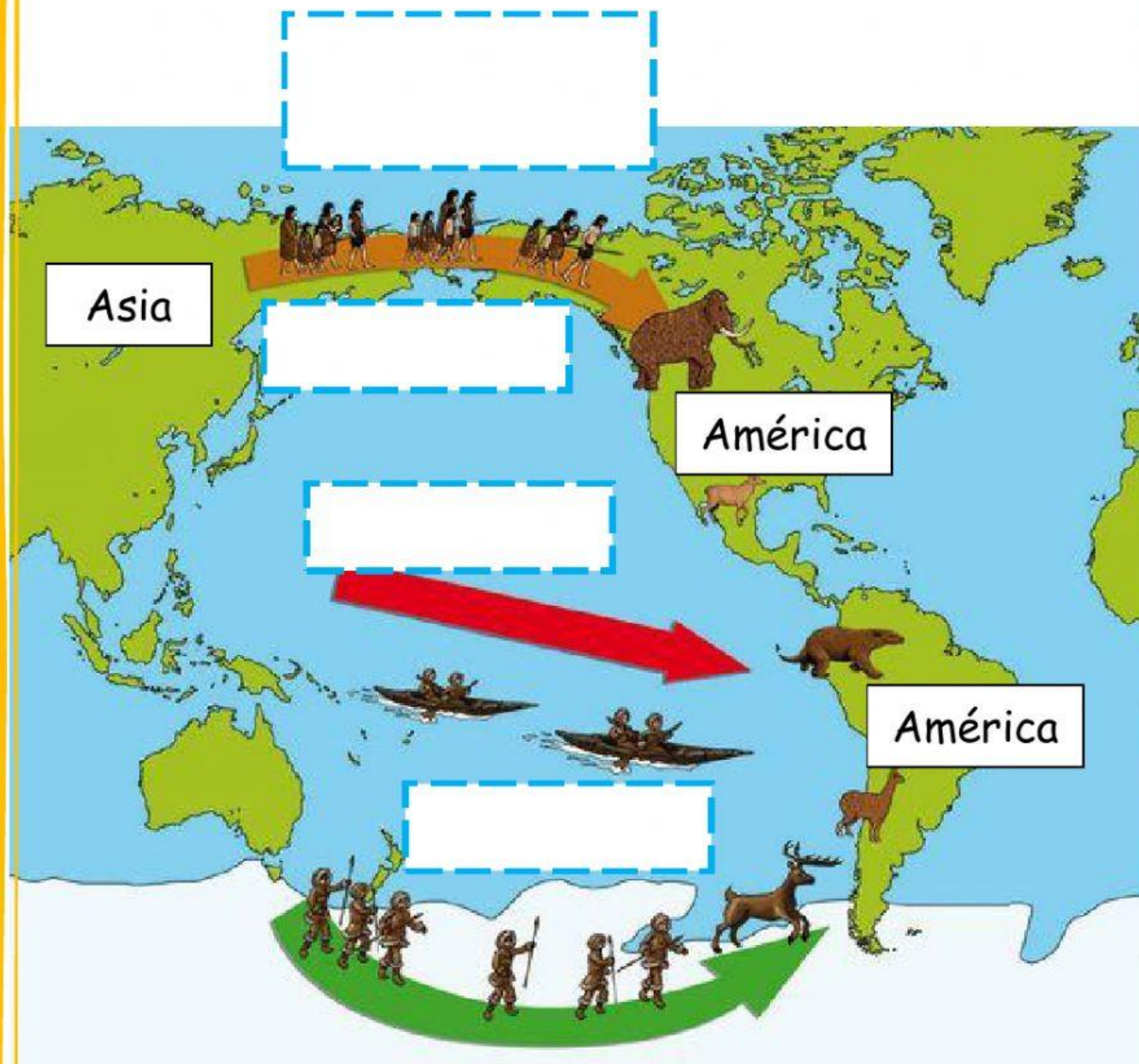
Sedentario



Se trasladaba de un lugar a otro en busca de alimento, no permanecía en un lugar

8. Completa el mapa del poblamiento de América arrastrando los cartelitos en cada ruta según la teoría al que pertenece y ubica el Estrecho de Bering.

MAPA DEL POBLAMIENTO DE AMÉRICA



Estrecho de
Bering

Oceánica

Australiana

Asiática