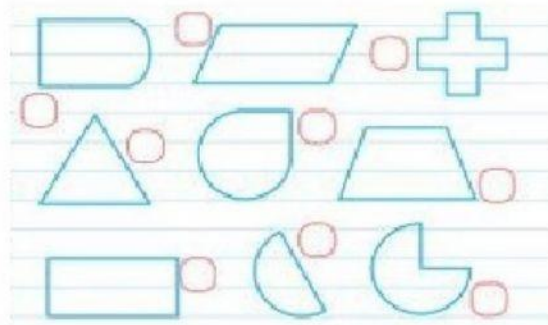
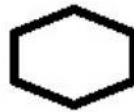



★ Marca las figuras que tienen sólo lados rectos.



★ ¿Cuál es la figura que tiene un lado curvo?



★ ¿Cuál es la figura que tiene lados iguales?



¿Cuántas figuras hay ?

