



**ESCUELA DE EDUCACIÓN BÁSICA
“SEÑOR DE LA BUENA ESPERANZA”**

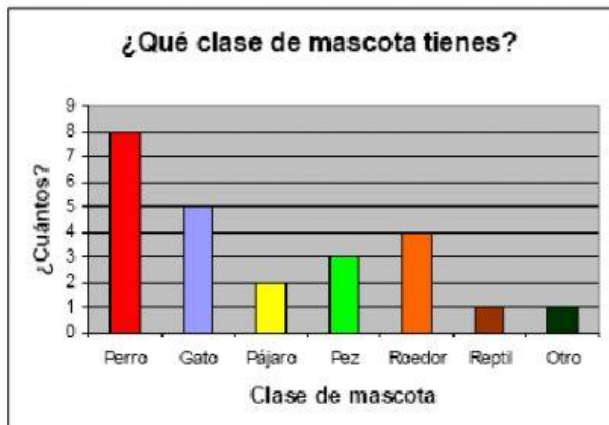
**EXAMEN DEL I QUIMESTRE
MATEMÁTICA
4TO. GRADO “A”**

Nombre: _____

Docente: Lic. Henry Morán Alcivar

1. Un billete de 5 dólares equivale a:
 - A. 3 monedas de 1 dólar y 10 de 10 ctvs.
 - B. 3 monedas de 50 ctvs. Y 2 de 25 ctvs.
 - C. 3 monedas de 1 dólar y 4 de 50 ctvs.
 - D. 6 monedas de 1 dólar
2. El total de la adición $4\,532 + 999$ es:
 - A. 1 367
 - B. 3 533
 - C. 5 531
 - D. 3 533
3. Si cada lado de un octágono mide 6 cm ¿Cuál es el perímetro de la figura?
 - A. 14
 - B. 34
 - C. 48
 - D. 58

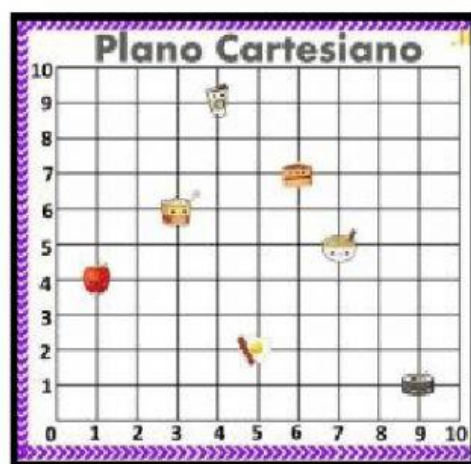
4. La gráfica muestra la mascota favorita elija la opción correcta



- A. Las mascotas preferidas son roedor y pez.
- B. Las mascotas menos preferidas son perro u otro
- C. La mascota preferida es perro
- D. La mascota menos preferida es pez

5. ¿En qué coordenadas se encuentra ubicada la manzana?

- A. (4,1)
- B. (2,4)
- C. (6,7)
- D. (1,4)




6. En 3000 metros hay

- A. 3 cm
- B. 3 Hm
- C. 3 Dam
- D. 3 Km

7. La figura que se muestra que ángulo es:

- A. Agudo
- B. Llano
- C. Obtuso
- D. Recto



8. ¿Qué es un polígono?

9. Complete la tabla

Múltiplos	metros	metros	Submúltiplos
	1000 m	1 m	mm
1 dam		1 m	cm

10. El cuadrilátero es:

- A. Triángulo
- B. Círculo
- C. Pentágono
- D. Rectángulo

11. La escritura correcta de 5 010 es:

- A. Cincuenta y diez
- B. Cinco mil y diez
- C. Cinco mil diez
- D. Diez y cinco mil

12. Elija la que no es propiedad de la adición

- A. Conmutativa
- B. Asociativa
- C. Demostrativa
- D. Modulativa

13. 120 dólares equivalen a:

- A. 10 billetes de 20 y 10 monead de 1 dólar
- B. 2 billetes de 20 y dos de 50 dólares
- C. 2 billetes de 50 y 1 de 20 dólares
- D. 100 monedas de 1 dólar

14. El resultado de $5\,679 - 2\,456$ es:

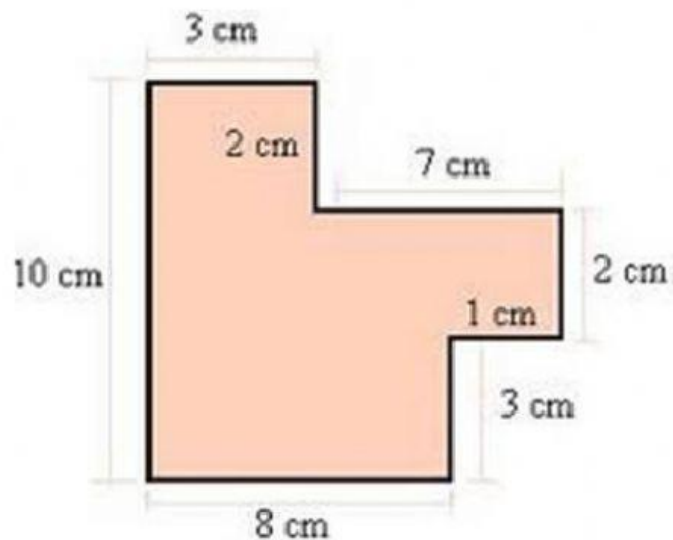
- A. 2 322
- B. 3 222
- C. 2 323
- D. 3223

15. La tabla de frecuencia permite:

- A. Registrar números telefónicos
- B. Registrar datos de un sorteo
- C. Registrar puntos cardinales
- D. Registrar datos de un estudio estadístico

16. El perímetro de la siguiente figura es:

- A. 31 cm
- B. 36 cm
- C. 43 cm
- D. 63 cm



17. El número anterior a 3 700 es

- A. 3 701
- B. 2 999
- C. 3 699
- D. 2 699

18. Juan dijo: La alarma sonó hace 10 minutos. La magnitud a la que hace referencia es:

- A. Longitud
- B. Superficie
- C. Tiempo
- D. Capacidad

19. El número de veces que se repite cada dato en una tabla se conoce como:

- A. Fragancia
- B. Contear
- C. Frecuencia
- D. Repetición

20. ¿Qué posición ocupa el 2 en el 2 539?

- A. Unidad
- B. Decena
- C. Unidad de mil
- D. Centena