
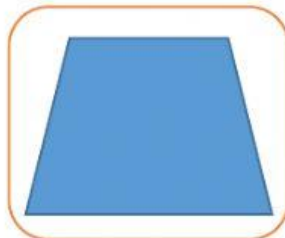


MENARIK GARIS

Tariklah garis pada pernyataan yang sesuai dengan gambar!




Memiliki 3 sisi dan 3 sudut




Rumus Luas = panjang x lebar



Sepasang sisi berhadapan sejajar



Keliling = 4 x sisi



Simetri lipat tak terhingga