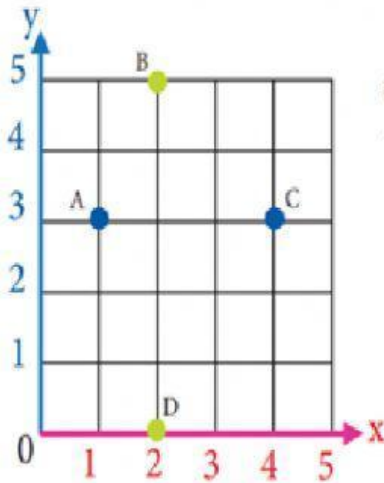


Noción y Construcción de Segmentos

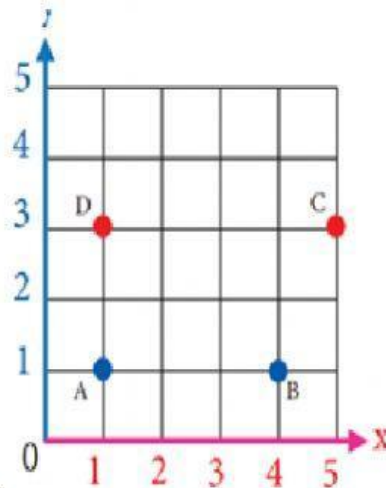
En el siguiente plano cartesiano construye un segmento uniendo los puntos B y D. ¿Cuánto mide el segmento BD?



- a) 1u
- b) 2u
- c) 3u
- d) 4u
- e) 5u

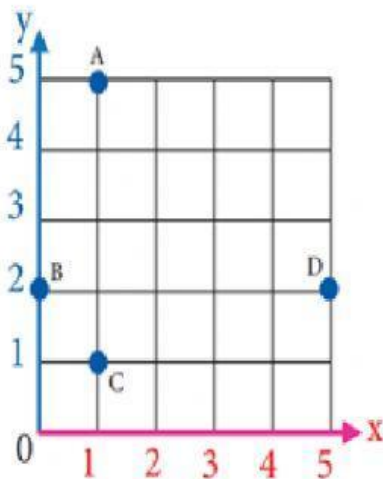


En el siguiente plano cartesiano construye un segmento uniendo los puntos A y B. ¿Cuánto mide el segmento AB?



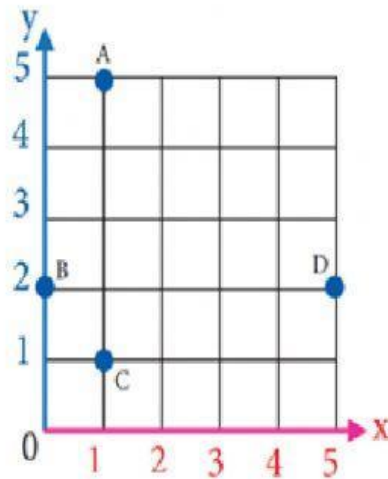
- a) 1u
- b) 2u
- c) 3u
- d) 4u
- e) 5u

En el siguiente plano, construye un segmento uniendo los puntos B y D. ¿Cuánto mide el segmento BD?



- a) 1u
- b) 2u
- c) 3u
- d) 4u
- e) 5u

En el siguiente plano, construye un segmento uniendo los puntos B y C. ¿Cuánto mide el segmento BC?



- a) 1u
- b) 2u
- c) 3u
- d) 4u
- e) 5u

